
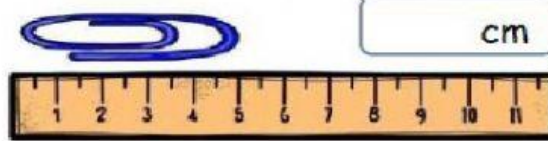


MEDIDAS DE LONGITUD


1. Observa la regla y escribe cuántos centímetros mide cada objeto.



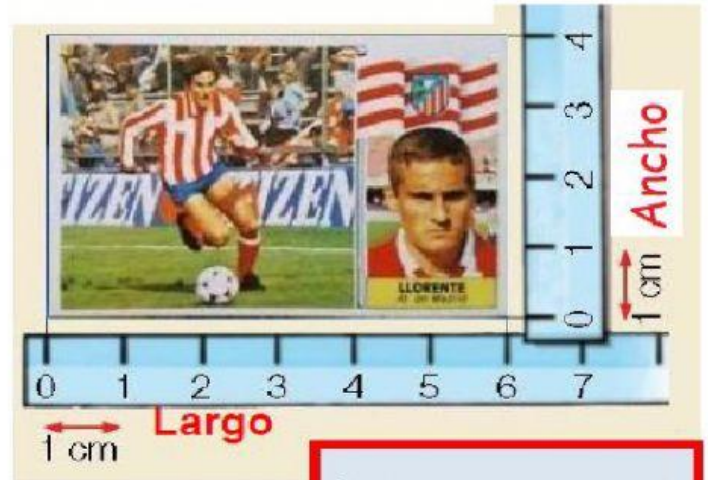
cm



cm



cm



Largo: cm

Ancho: cm

2. Estima cuánto mide y une con la medida que creas que tenga.

3 cm

40 cm

15 cm



3. María tiene dos reglas: Una de ellas mide 20 cm y otra 50 cm. ¿Cuánto medirán las dos juntas?



$$\boxed{} \boxed{} \boxed{} = \boxed{}$$

EL METRO

4. Estima lo que crees que mide cada cosa y une.



20 metros



menos de un metro



4 metros

5. Elige qué instrumento de medida utilizarías para medir estos objetos.

