

Nama Peserta Didik :

LK T6 ST1 PB3 & PB6

Nomor Absen :

1. Beri tanda ( ✓ ) pada gambar kebiasaan yang baik  
Beri tanda ( X ) pada gambar kebiasaan yang tidak baik



2. Susunlah menjadi ungkapan petunjuk.

Contoh:

sampah tempatnya pada buanglah

Susunan kalimat yang benar adalah:

buanglah sampah pada tempatnya

1. sabun saat tangan gunakan cuci

Menjadi

2. disapu hari lantai setiap harus

Menjadi

3. 

air
-----

ember
-------

ke
----

tuang
-------

dalam
-------

Menjadi

--	--	--	--	--

4. 

campur
--------

lantai
--------

pewangi
---------

air
-----

dengan
--------

Menjadi

--	--	--	--	--

5. 

basah
-------

bersihkan
-----------

kaca
------

dengan
--------

lap
-----

Menjadi

--	--	--	--	--

### 3. Kerjakanlah soal berikut.

1.  $24 - 13 = \dots$   
 $24 = \dots \text{ puluhan} + \dots \text{ satuan}$   
 $13 = \dots \text{ puluhan} + \dots \text{ satuan} -$   
 $\quad \quad \quad \dots \text{ puluhan} + \dots \text{ satuan}$   
Jadi,  $24 - 13 = \dots$
2.  $29 - 15 = \dots$   
 $29 = \dots \text{ puluhan} + \dots \text{ satuan}$   
 $15 = \dots \text{ puluhan} + \dots \text{ satuan} -$   
 $\quad \quad \quad \dots \text{ puluhan} + \dots \text{ satuan}$   
Jadi,  $29 - 15 = \dots$
3.  $43 - 11 = \dots$   
 $43 = \dots \text{ puluhan} + \dots \text{ satuan}$   
 $11 = \dots \text{ puluhan} + \dots \text{ satuan} -$   
 $\quad \quad \quad \dots \text{ puluhan} + \dots \text{ satuan}$   
Jadi,  $43 - 11 = \dots$
4.  $23 - 13 = \dots$   
 $23 = \dots \text{ puluhan} + \dots \text{ satuan}$   
 $13 = \dots \text{ puluhan} + \dots \text{ satuan} -$   
 $\quad \quad \quad \dots \text{ puluhan} + \dots \text{ satuan}$   
Jadi,  $23 - 13 = \dots$

5.  $24 - 22 = \dots$





$24 = \dots$  puluhan +  $\dots$  satuan

$22 = \dots$  puluhan +  $\dots$  satuan –

$\dots$  puluhan +  $\dots$  satuan

Jadi,  $24 - 22 = \dots$

4. Urutkan gambar berseri di bawah ini hingga menjadi petunjuk menjemur pakaian.

<p>Gantungkan pakaian pada tiang jemuran</p> 	<p>Kibaskan pakaian yang sudah diperas</p> 
<p>Peras pakaian yang sudah dicuci</p> 	<p>Baliklah pakaian hingga jahitannya di luar</p> 

5. Selesaikanlah soal cerita berikut dengan teliti.

Ibu akan menyetrika. Ibu menghitung pakaian yang akan disetrika. Banyak pakaian ada 29 helai. Setelah menyetrika 21 baju, ayah datang membantu ibu. Berapa pakaian yang belum disetrika ibu?

<input type="text"/>	=	<input type="text"/>	+	<input type="text"/>
<input type="text"/>	=	<input type="text"/>	+	<input type="text"/>
<hr/>				
<input type="text"/>	+	<input type="text"/>	=	<input type="text"/>

Ibu selesai menyetrika semua pakaian.  
Lani membantu ibu memasukkan pakaian ke dalam lemari.  
Ada 28 helai pakaian yang sudah disetrika.  
14 pakaian adalah pakaian ayah dan ibu.  
Sisanya adalah pakaian Lani.  
Berapa banyak pakaian Lani yang disetrika?

<input type="text"/>	=	<input type="text"/>	+	<input type="text"/>
<input type="text"/>	=	<input type="text"/>	+	<input type="text"/>
<hr/>				
<input type="text"/>	+	<input type="text"/>	=	<input type="text"/>