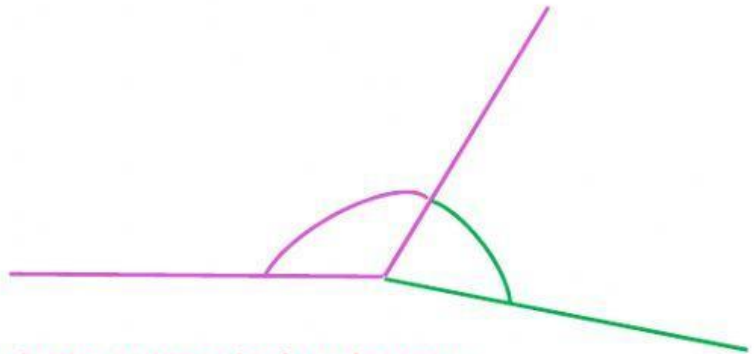

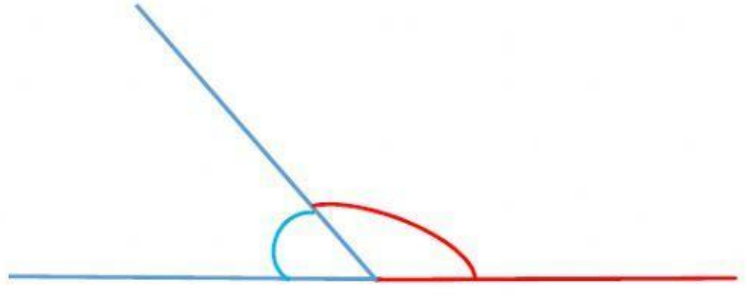
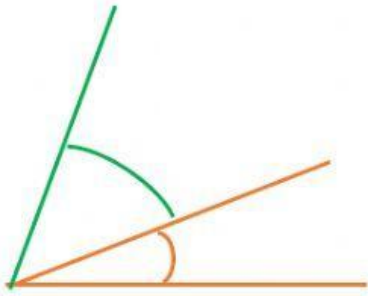


ÁNGULOS COMPLEMENTARIOS

y

Ángulos suplementarios

COMPRUEBA gráficamente si los siguientes pares de ángulos son **COMPLEMENTARIOS**, **SUPLEMENTARIOS** o ninguno de ellos.



COMPRUEBA, con medidas, si los siguientes pares de ángulos son **COMPLEMENTARIOS**, **SUPLEMENTARIOS** o ninguno de ellos.

→ 143° y 37°

→ 77° y 13°

→ 25° y 65°

→ 110° y 72°

→ 122° y 53°

→ 66° y 23°

→ 86° y 4°

→ 131° y 49°