
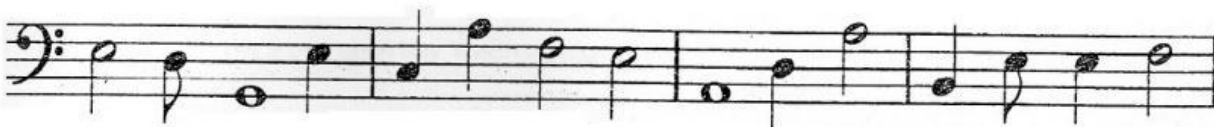


## Lección 13. Líneas y Espacios en Clave de Fa

Instrucciones: Escribir los nombres de las notas con sus números de altura.




.....



.....

Instrucciones: Traza una línea entre las notas con las respuestas que corresponda en cada grupo.



Si2 La2 Sol3 Re3



La2 Sol3 La3 Re3



La2 Re3 Do3 Mi3



La3 Do3 Mi3 Fa3




Mi2 La2 Re3 Do3



Sol2 La3 Sol3 Do4

Instrucciones: Arrastra (o tacha y copia) las respuestas hasta la nota que corresponda



-----

Fa3 Mi2 Do4 Re3 La3 Si2 Sol2

Si3 Mi3 Sol3 Do3 La2 Fa2