



Prueba Diagnostica Tecnologia e Informatica Grado: Tercero



INFORMÁTICA

1. *Unir con el dibujo con su función de acuerdo sus conocimientos.*


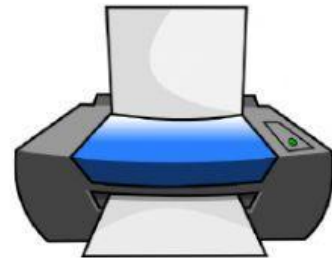
Nos permite ver lo que escribimos o dibujamos en el computador.

Nos permite comunicarnos con el computador, dibujar, jugar y lo utilizamos para hacer clic y doble clic.

Permite pasar lo que escribimos, o las imágenes desde el computador a hojas papel.

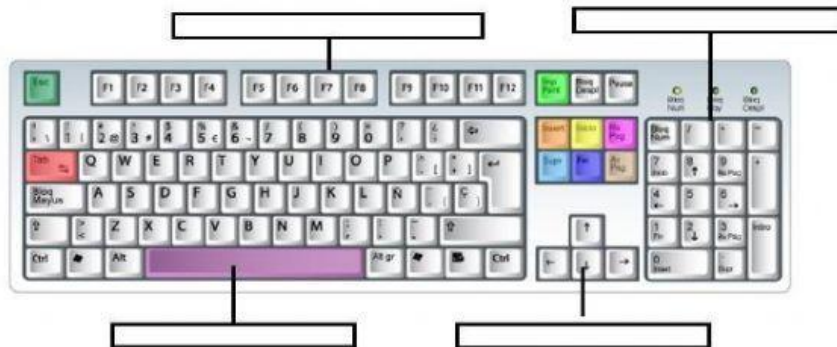
Permite escribir letras y números en el computador.

Procesa, guarda los datos, es el corazón o el cerebro de todo el computador.





Seleccione la respuesta correcta

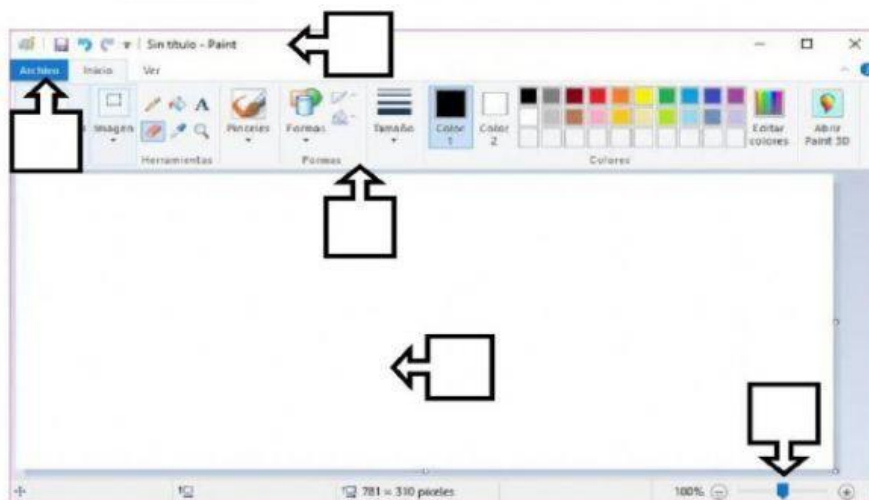


2. ¿Cuáles son las partes del teclado?

- a. De función, numérico, alfanumérico, de control.
- b. Letras, números, funciones, dibujos.
- c. Números, letras, barra espaciadora. Alfanumérico
- d. Ninguna de las anteriores

3. Escriba el numero correspondiente a las partes de la ventana de Paint

- 1 Botón archivo
- 2 Cinta de opciones
- 3 Barra de título
- 4 Área de trabajo
- 5 Zoom



INFORMÁTICA

