

**LEMBAR KERJA SISWA**  
**KELAS VI**

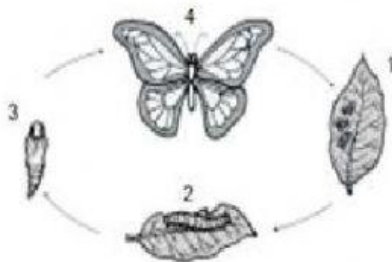
Nama :

1. Perhatikan tabel berikut!

No.	Kegiatan Manusia
1.	membuang sampah di sungai
2.	melakukan pengolahan limbah
3.	menangkap ikan dengan pukat harimau
4.	melakukan ladang berpindah
5	melakukan daur ulang sampah

Kegiatan manusia yang dapat merusak lingkungan ditunjukkan nomor ....

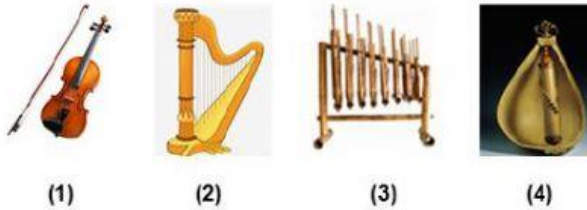
- A. 1, 3, dan 4
  - B. 1, 3, dan 5
  - C. 2, 3, dan 4
  - D. 2, 3, dan 5
2. Perhatikan tabel berikut!



Hewan yang memiliki daur hidup serupa dengan gambar adalah ... .

- A. kecoa dan lebah
- B. belalang dan lalat
- C. nyamuk dan lebah
- D. nyamuk dan jangkrik

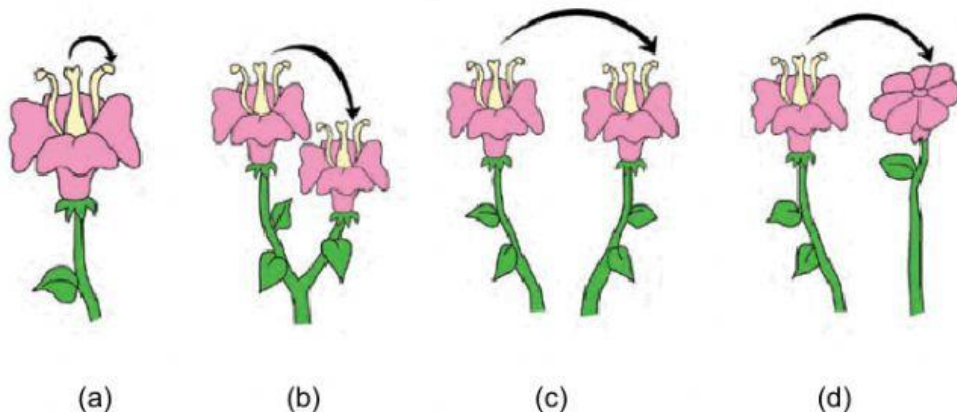
3. Perhatikan gambar berikut!



Alat musik yang dibunyikan dengan cara dipetik ditunjukkan oleh nomor ....

- A. (2) dan (4)
- B. (1) dan (2)
- C. (1) dan (4)
- D. (3) dan (4)

- 4. Untuk melindungi dirinya, cicak memiliki kemampuan untuk melepaskan ekornya. Kemampuan tersebut disebut juga . . . .
- 5. Bentuk daun teratai lebar dan tipis yang berfungsi untuk . . . .
- 6. Pohon randu . . . . untuk mengurangi penguapan di musim kemarau.
- 7. Sebutkan macam-macam penyerbukan pada gambar di bawah ini!



Jawab : \_\_\_\_\_

8. Jodohkan gambar tanaman berikut dengan cara berkembang biak yang tepat!


a. Rhizoma

b. Spora


c. Geragih



9. Pasangkan gambar hewan berikut dengan ciri khususnya!



**Autotomi**



**Ekolokasi**



**Hibernasi**

10. Pilihlah jawaban yang sesuai, antara gambar hewan dan jenis metamorfosisnya!

