

Nombre: _____ Fecha: _____

RESOLUCIÓN DE PROBLEMAS 5

1. Selecciona la solución correcta.

→ Enero tiene 31 días. Si hoy fuera día 20, ¿cuántos días faltarían para acabar el mes?






- A) 31 días B) 11 días C) 20 días D) 51 días

→ Enrique tenía dos centenas de manzanas en su tienda. El repartidor le trajo una caja con una centena y cinco decenas. ¿Cuántas manzanas tiene en total Enrique en su tienda?



- A) 25 manzanas B) 205 manzanas C) 350 manzanas

2. Selecciona todas las preguntas posibles para esta tabla de datos.

Jugadores	Puntos
 Felipe	27
 Francisco	15
 Carlos	38

- ☐ ¿Cuántos puntos más ha conseguido Carlos que Felipe?
- ☐ ¿Cuántos puntos más ha conseguido Felipe que Francisco?
- ☐ ¿De quién es hermano Francisco?
- ☐ ¿Cuántos años tienen entre los tres?

3. Ordena el enunciado.



- Ya ha hecho 23 bollos.
- ¿Cuántos bollos faltan por hacer?
- Un panadero debe hacer 74 bollos de pan.

1°

2°

3°

4. Resuelve.

Cristina tiene en su hucha 150€ y su abuela le da 55€ de regalo de cumpleaños. ¿Cuánto dinero tiene en total?

DATOS

_____ euros tiene en su hucha.

_____ euros le da su abuela.

OPERACIÓN

C D U

○			
<hr/>			

SOLUCIÓN Tiene _____ euros en total.