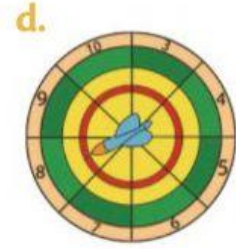
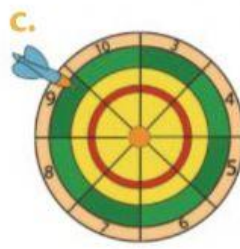
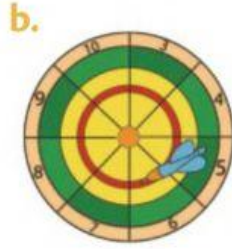



- 4 Si clavas un dardo en la parte verde de la diana, obtienes el doble de puntuación. Si lo clavas en la zona roja, obtienes el triple de puntos. ¿Qué puntuación hay en cada diana?



- 5 Observa los dibujos. Completa con **doble** o **triple** en tu cuaderno.



- La niña tiene el $\diamond\diamond\diamond$ de fresas que el niño.
- El niño tiene el $\diamond\diamond\diamond$ de libros que la niña.
- El niño tiene el $\diamond\diamond\diamond$ de flores que la niña.
- La niña tiene el $\diamond\diamond\diamond$ de cartas que el niño.