

# Математика

1. Реши задачите.

$11 - 9 = \square$

$13 + 6 = \square$

$12 - 2 = \square$

$12 - 3 = \square$

$20 - 8 = \square$

$14 - 3 = \square$

$12 + 4 = \square$

$12 - 3 = \square$

$18 - 6 = \square$

$11 - 8 = \square$

$11 - 7 = \square$

$11 - 5 = \square$

2. Числото, което е със 7 по-голямо от 12, е:

18

19

5

20

3. Явор има 11 лева, а Ани - с 3 лева по-малко.  
Колко лева има Ани?

а) 14 лева

б) 8 лева

в) 12 лева

4. В задачата  $15+3 = 18$  числото 3 е:

а) събираемо      в) умаляемо




б) сбор              г) умалител

5. В задачата  $20 - 14 = 6$  числото 14 е:

а) събираемо      в) умаляемо

б) сбор              г) умалител

6. Пропуснатият знак в задачата  $16 \square 3 = 13$  е



Прекрасен ден!