



Estudante:

Turma: 6º ano

Profª : Lílian Silva Gran

Disciplina: História

Data:

AV1 - 1º Trimestre

Nota:

"Seja o carpinteiro de seu próprio futuro.

Seja o único historiador de seu passado.

Seja o melhor arquiteto do seu hoje.

Faça de seu presente a obra mais valiosa já vista.

Lapide com suas mãos, suor, lágrimas e sorrisos, o magnífico monumento que será seu amanhã.

Seja aquilo que precise ser para ser feliz."

Cleonio Dourado

1- O historiador vive o presente voltado para suas pesquisas sobre o passado. Constrói diálogos com o tempo para tentar compreender a sociedade humana e suas relações. Numa perspectiva mais ampla, a análise da História:

(A) é reservada à comunidade acadêmica, que utiliza somente fontes primárias.

(B) está restrita ao saber dos historiadores, porque eles detêm as regras fundamentais à formação do pensamento histórico.

(C) é importante por elucidar as ações humanas e favorecer a resolução de muitas dificuldades sociais de cada tempo.




(D) fundamenta-se na leitura exclusiva de documentos escritos.

- "O samba de roda do recôncavo baiano foi registrado como Patrimônio Cultural do Brasil pelo Instituto do Patrimônio Histórico e Artístico Nacional (Iphan) em 2004 e proclamado Obra-Prima do Patrimônio Oral e Imaterial da Humanidade pela Unesco em 2005. É uma expressão musical, coreográfica, poética e festiva das mais importantes e significativas da cultura brasileira. Seus primeiros registros, já com esse nome e com muitas das características que ainda hoje o identificam, datam dos anos 1860."

<http://www.brasil.gov.br/cultura/2014/07/samba-de-roda-baiano-e-considerado-patrimonio-cultural>

2- Por que o samba é considerado patrimônio cultural imaterial da humanidade?

3- Observe os calendários e responda:

ILUSTRAÇÕES: VICENTE MENEZES		Calendário judaico	Criação do mundo para os hebreus		Dias atuais	
			1	3761	4382	5771
		Calendário cristão	Antes de Cristo		Depois de Cristo	
			3760	Nascimento de Cristo 1	622	2011
		Calendário islâmico	Antes da fuga de Maomé		Fuga de Maomé para Medina	
			3235	622	1	1432

a) O que os calendários têm em comum?

b) Qual é o marco inicial de cada calendário exibido na imagem?

- Calendário Judaico

- Calendário Cristão

- Calendário muçulmano (islâmico)

4- Escreva o que se pede:

a) Um **ano** para os séculos:

XIV _____

XV _____

XVIII _____

b) O **século** dos anos:

1600 _____

2018 _____

1289 _____