



Manahej


Département de Sciences

EB 3 \_\_\_\_\_

## Fiche de révision 2

### Exercice 1 :

Relie la figure du polluant à son nom.



● Les Produits pétroliers



● Les ordures ménagères



● Les eaux des égouts

### Exercice 2 :

**Observe le document 1 puis entoure la bonne réponse.**

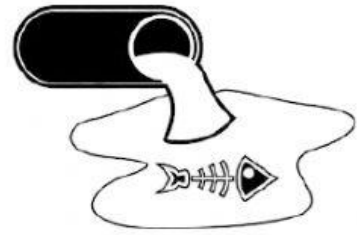


Document 1 : La pollution du fond de la mer

1. Les polluants représentés dans le document 1 sont :
  - a. Les eaux des égouts
  - b. Les ordures ménagères
  - c. Les produits pétroliers
  
2. **Indique** qui est responsable de la pollution de la mer.
  - a. Les êtres humains
  - b. Les animaux
  - c. Les plantes
  
3. **Indique** la conséquence qui résulte de ce polluant.
  - a. Les animaux de la mer vont manger ce polluant et peuvent mourir.
  - b. Les animaux de la mer vont aimer ce polluant.
  - c. Les animaux de la mer ne seront pas affectés (resteront en bonne santé) par ce polluant.


**Exercice 3 : Lis le texte puis réponds aux questions suivantes.**

Les êtres humains mangent beaucoup des animaux marins comme les poissons et les crabes. Les êtres humains rejettent les eaux des égouts dans la mer, ce qui rend les animaux malades.




1. **Relève** du texte deux exemples des animaux qui vivent dans la mer.
  - a. Les poissons et les crabes
  - b. Les poissons et les rochers
  - c. Les crabes et les rochers
  
2. **Relève** du texte le nom de polluant, que les êtres humains rejettent dans la mer et rend les animaux malades.
  - a. Les produits pétroliers
  - b. Les ordures ménagères
  - c. Les eaux des égouts
  
3. **Conclus** comment les êtres humains sont affectés par le polluant du texte.
  - a- Ils mangent les aliments pollués
  - b- Ils nagent dans la mer
  - c- Ils sentent une mauvaise odeur

**Exercice 3 : Nomme les différents milieux de vie.**



Un milieu \_\_\_\_\_



Un milieu \_\_\_\_\_