



# LOS POLÍGONOS

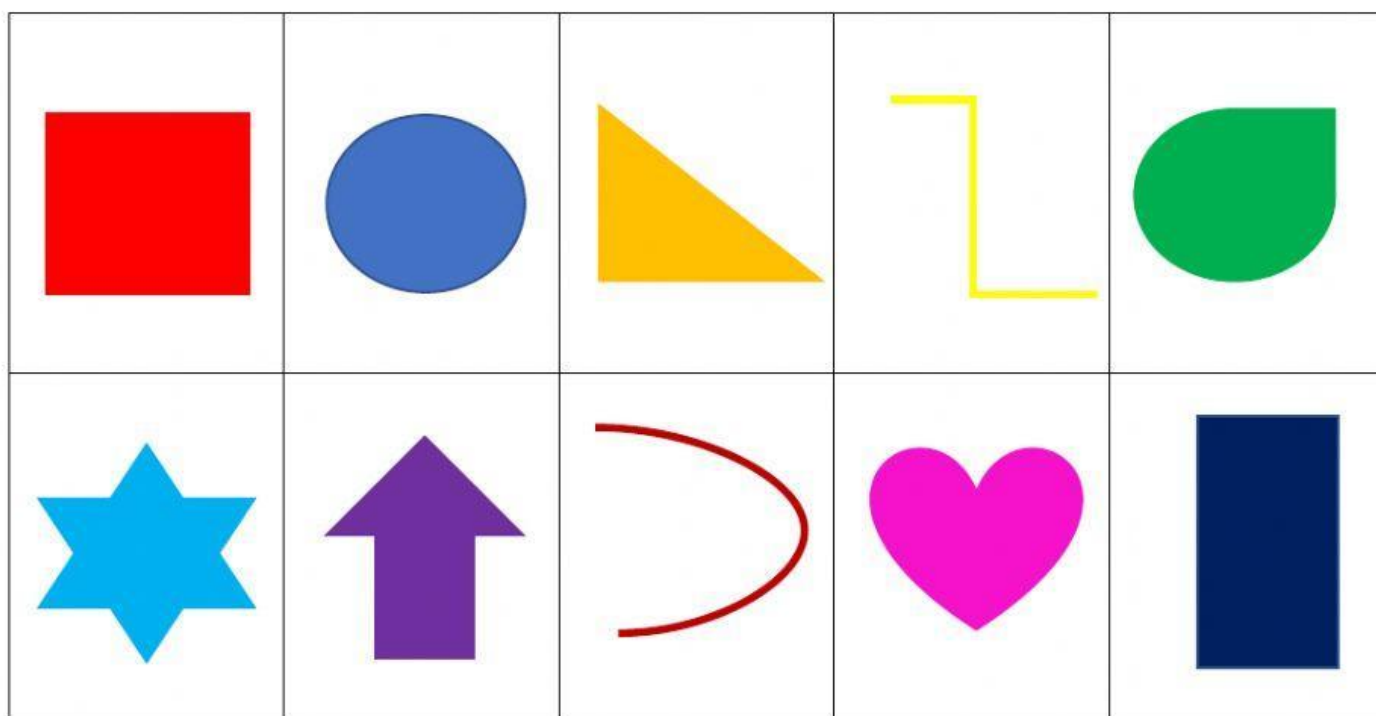
## RECUERDA.

Un polígono es una figura plana cuyo borde es una línea poligonal cerrada.

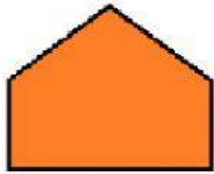
Los polígonos tienen lados y vértices.



Marca las figuras que sean polígonos.




Cuenta y completa.




lados

vértices




lados

vértices



lados

vértices



lados

vértices


¿Cómo se llaman? Une cada polígono con su nombre




triángulo



cuadrado



pentágono

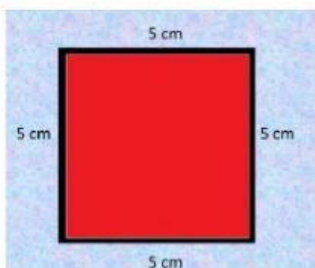


hexágono

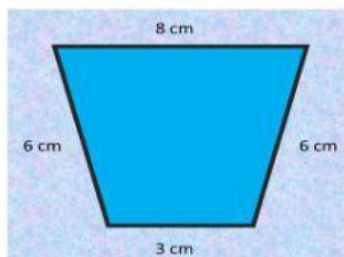
# EL PERÍMETRO

El perímetro es la suma de lo que miden los lados de un polígono.

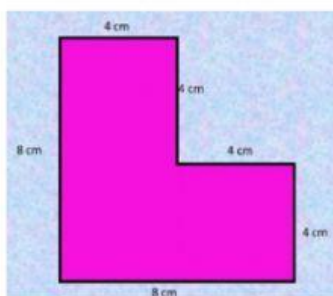
Calcula el perímetro de las siguientes figuras.



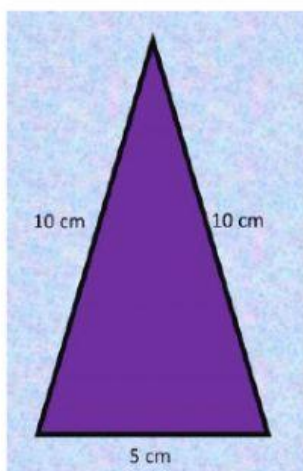
$$P = 5 + 5 + 5 + 5 = \boxed{\phantom{00}} \text{ cm.}$$



$$P = \dots + \dots + \dots + \dots = \boxed{\phantom{00}} \text{ cm.}$$



$$P = \dots + \dots + \dots + \dots + \dots + \dots = \boxed{\phantom{00}} \text{ cm.}$$



$$P = \dots + \dots + \dots = \boxed{\phantom{00}} \text{ cm.}$$