

Περίμετρος

1. Τι ονομάζουμε περίμετρο ενός σχήματος;
 - a) Το άθροισμα του μήκους των πλευρών ενός σχήματος.
 - b) Τη συνολική επιφάνεια ενός σχήματος.
 - c) Το μήκος μίας πλευράς ενός σχήματος.
2. Όταν μου ζητάνε να βρω την περίμετρο ενός σχήματος, βρίσκω
 - a) Τις πλευρές
 - b) Το μέσο
 - c) Το γύρω γύρω
3. Για να βρω την περίμετρο ενός σχήματος πρέπει
 - a) να προσθέσω όλες τις πλευρές
 - b) να πολλαπλασιάσω τις πλευρές
 - c) να προσθέσω κάποιες πλευρές

4.

6

Ποια είναι περίμετρος του σχήματος;



- a) 16
- c) 19

- b) 18
- d) 17

5.

Ποια είναι περίμετρος του σχήματος;



- a) 37
- c) 38

- b) 34
- d) 39

6.

Ποια είναι περίμετρος του σχήματος;



- a) 50
- c) 47

- b) 49
- d) 48

7.

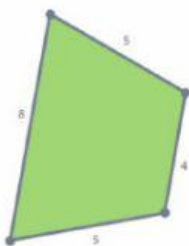
Ποια είναι περίμετρος του σχήματος;



- a) 40
- c) 38

- b) 34
- d) 37

8.



Ποια είναι περίμετρος του σχήματος;


a) 24

b) 21

c) 23

d) 22

9.



Ποια είναι περίμετρος του σχήματος;

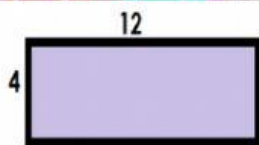
a) 23

b) 26

c) 25

d) 22

10.



Ποια είναι περίμετρος του σχήματος;

a) 34

b) 32

c) 33

d) 35