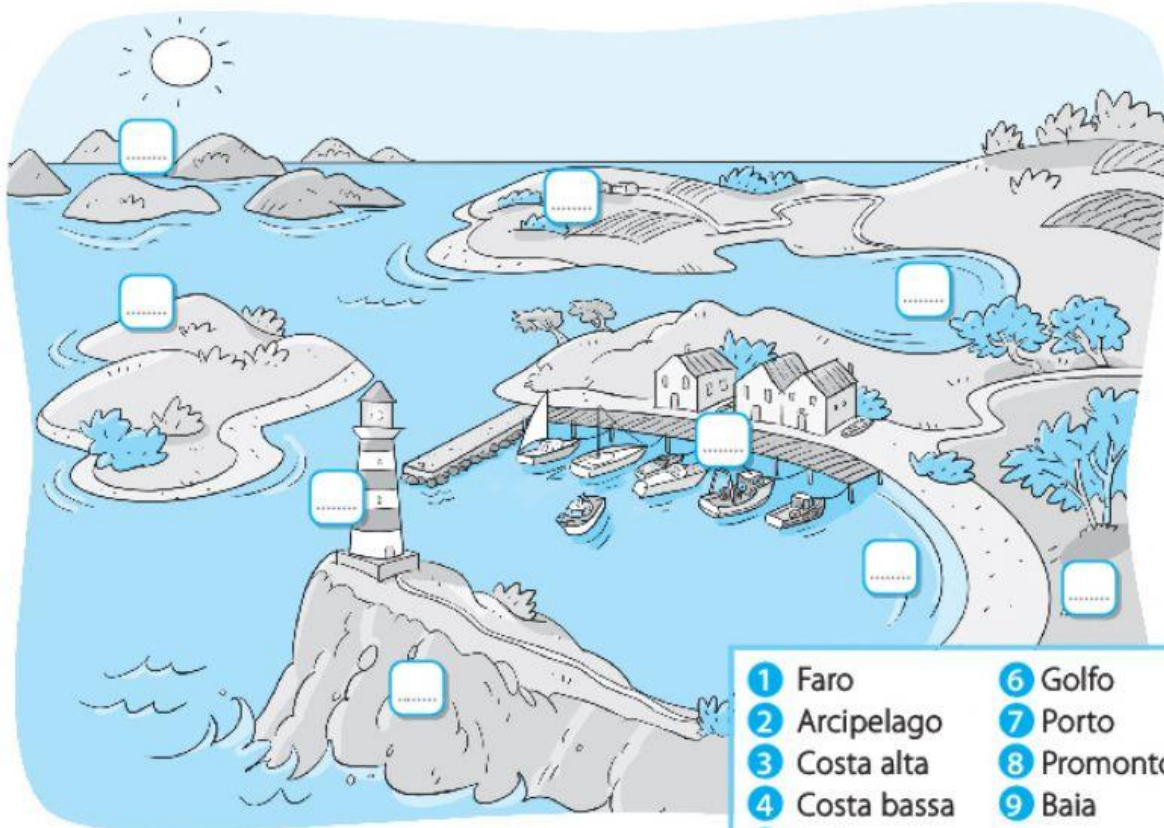


IL MARE

1 Inserisci nei quadratini i numeri corrispondenti a ciascun elemento del mare.




- | | |
|---------------|---------------|
| 1 Faro | 6 Golfo |
| 2 Arcipelago | 7 Porto |
| 3 Costa alta | 8 Promontorio |
| 4 Costa bassa | 9 Baia |
| 5 Isola | |

2 Collega ciascun termine alla sua definizione.



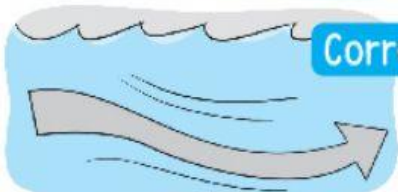
Onde

Movimenti di abbassamento e innalzamento del livello dell'acqua del mare, provocati dall'attrazione della Luna.



Maree

Corsi d'acqua calda o fredda che scorrono all'interno del mare, seguendo sempre la stessa direzione.



Correnti

Movimenti della superficie dell'acqua del mare provocati dall'azione del vento.