

ESCUELA DE EDUCACIÓN BÁSICA "EDUARDO KINGMAN"


eduardokingman13@hotmail.com
Sibambe # 510 y Ambato



NOMBRE _____

2DO AB


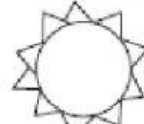

1.- Arrastra los números y completa las sucesiones de suma y de resta (2 pts)







7 32 26 38

2.- Escoge el Patrón correcto y completa secuencia (2 pts)

a. 57, 60, 63, , ,  Patrón:

b. 80, 82, 84, , ,  Patrón:

c. 60, 65, 70, , ,  Patrón:

d. 10, , 30, , ,  Patrón:

3.- Arrastra y organiza los números de mayor a menor para formar una secuencia y descubre el patrón numérico (2 Ptos)

ANTILLANA

Patrón: _____

4.- Selecciona los números que indica tu maestra (2 Ptos)

55	-	23	-	18	-	84	-
33	-	76	-	69	-	10	-
88	-	6	-	40	-	1	-

5.- Completa la serie del 60 al 80 (2 Ptos)

60	-		-	62	-		-		-	65
	-	67	-		-	69	-		-	71
	-	73	-		-		-	76	-	
78	-		-	80	-					