

## Clases de fracciones

Nombre: \_\_\_\_\_ Grado: \_\_\_\_\_

1.- Une con líneas según corresponda el tipo de fracción.

$$\frac{4}{8}$$

$$\frac{2}{7}$$

$$\frac{3}{6}$$

FRACCIÓN DECIMAL

$$\frac{9}{3}$$

$$\frac{12}{8}$$

$$\frac{7}{2}$$

FRACCIÓN PROPIA

$$\frac{4}{4}$$

$$\frac{2}{2}$$

$$\frac{6}{6}$$

FRACCIÓN MIXTA

$$\frac{9}{10}$$

$$\frac{2}{100}$$

$$\frac{3}{1000}$$

FRACCIÓN IMPROPIA

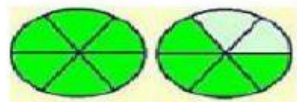
$$5 \frac{6}{8}$$

$$7 \frac{8}{3}$$

$$2 \frac{4}{12}$$

FRACCIÓN EQUIVALENTE

2.- Une con líneas la fracción mixta que corresponda




$$2 \frac{3}{4}$$

$$1 \frac{4}{6}$$

3.- ESCRIBA LA FRACCIÓN QUE CORRESPONDA A LOS GRÁFICOS

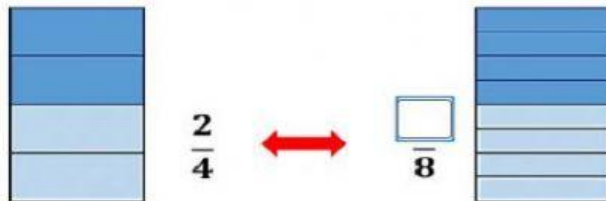


—



—

4.- Escribe el número que falta para que la fracción sea equivalente.



5.- Arrastra y coloca las fracciones propias e impropias donde corresponda.

**FRACCIONES  
PROPIAS**




**FRACCIONES  
IMPROPIAS**
