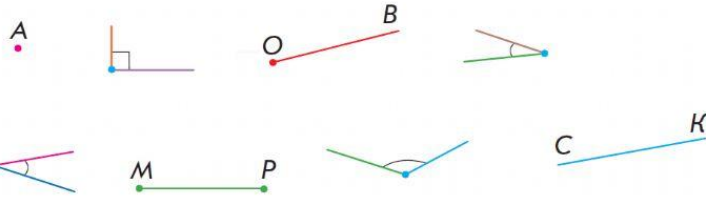


## КУТ

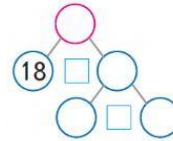
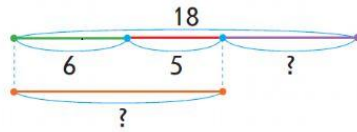


Два промені зі спільним початком утворюють **кут**.  
 Промені — це **сторони кута**.  
 Точка, із якої проведені промені, — **вершина кута**.

Познач всі кути.



► Бабуся підклала під квочку 18 яєць. Із них вилупилися 6 білих, 5 чорних курчат, а решта — рябенькі. Скільки рябеньких курчат вилупилося?



1)  $(6 + 5) - 18$

2)  $18 - (6 + 5)$

3)  $(18 - 6) - 5$

Назви геометричні фігури.

