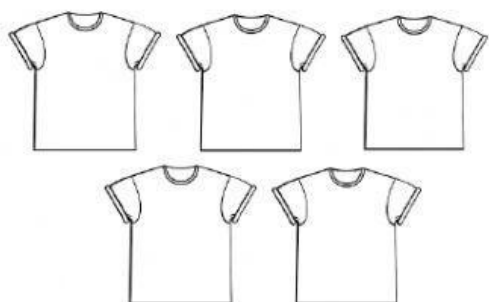
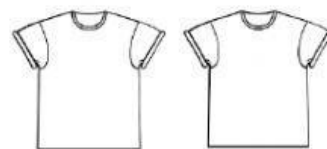


COMPLETA CON LAS CIFRAS Y LOS NÚMEROS QUE FALTAN PARA PODER REALIZAR LAS SUMAS:

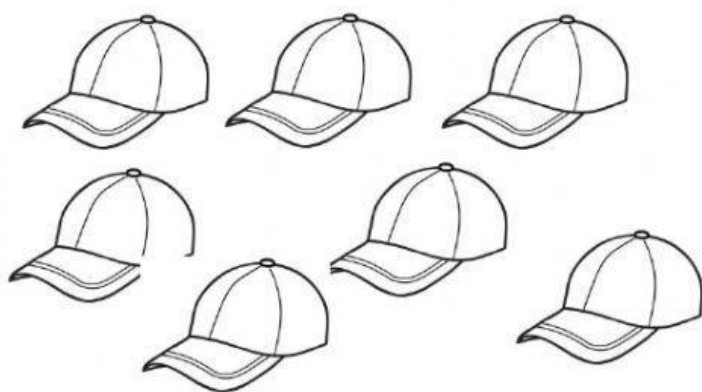
ESCRIBE LOS NÚMEROS QUE FALTAN Y REALIZA LAS SUMAS:



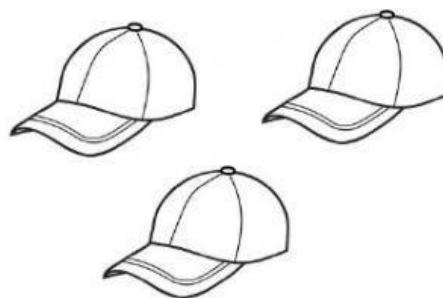
+



$$5 + 2 =$$



+



$$7 + =$$



+



$$+ =$$