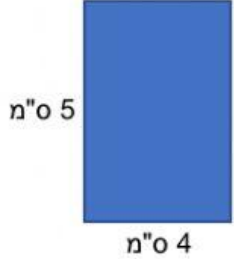




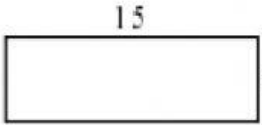

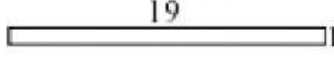
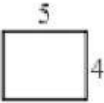
## היקף ושטח מלבן

1. בכל אחד מהמלבנים, חשבו את ההיקף ואת השטח. (כתבו מספרים מתאימים)



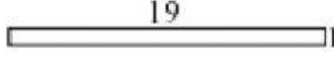
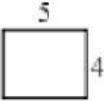
 <p>היקף: _____ ס"מ שטח: _____ סמ"ר</p>	 <p>היקף: _____ ס"מ שטח: _____ סמ"ר</p>	 <p>היקף: _____ ס"מ שטח: _____ סמ"ר</p>
--	--	--

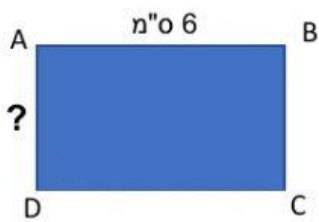
2.

א. סמנו את המלבנים שיש להם אותו היקף.

 <p>④</p>	 <p>③</p>	 <p>②</p>	 <p>①</p>
---	---	--	---

ב. סמנו את המלבן בעל השטח הגדול ביותר

 <p>④</p>	 <p>③</p>	 <p>②</p>	 <p>①</p>
--	--	---	--

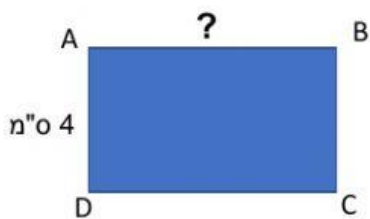


3. נתון מלבן ששטחו 18 סמ"ר.

ידוע שאורך אחת הצלעות הוא 6 ס"מ.

מה תהיה אורך הצלע AD?

בחרו את התשובה הנכונה: \_\_\_\_\_ ס"מ



4. נתון מלבן שהיקפו 20 ס"מ.

ידוע שאורך אחת הצלעות הוא 4 ס"מ.

מה תהיה אורך הצלע AB?

בחרו את התשובה הנכונה: \_\_\_\_\_ ס"מ