

Fiumi d'Italia

fiumi d'Italia
Martina Ianni

FIUMI D'ITALIA E IL FIUME PO
GEOGRAFIA

SILVIA PRIORE

I fiumi d'Italia possono dividersi in **3 gruppi**. Scrivi quali sono e collegali alle loro definizioni

Fiumi A.....

Si trovano in Italia Meridionale, sono brevi, sono asciutti d'estate e hanno piene in primavera

Fiumi Ap.....

Si trovano a Nord, nascono dalle Alpi, sono lunghi e hanno portata costante

F.....

Nascono dagli Appennini, sono più brevi e si dividono in T_____ e A_____

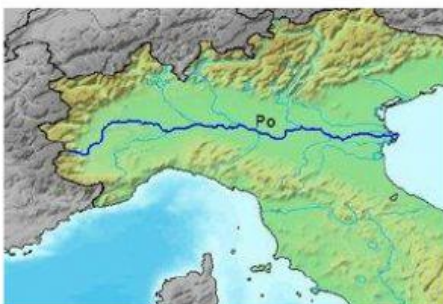
FIUMI ALPINI

I fiumi alpini sono alimentati dai g_____, dalla p_____ e dalle nevi e quindi hanno una portata COSTANTE / IRREGOLARE . Inoltre sono molto LUNGI / BREVI.

I due più grandi fiumi italiani sono APPENNINICI / ALPINI e sono il P__ e l'A_____.

Il Po è il fiume più _____ d'Italia, nasce dal monte M_____, attraversa tutta la pianura P_____ e sfocia nel mar ADRIATICO / LIGURE con una foce a ESTURIO / DELTA cioè ramificata.

L'Adige è il 2° fiume d'Italia, nasce in val Venosta e sfocia nel mar TIRRENO / ADRIATICO con una foce a ESTURIO / DELTA cioè a imbuto.



FIUMI APPENNINICI

I fiumi appenninici hanno carattere t_____ cioè sono più BREVI / LUNGHI e hanno portata IRREGOLARE / COSTANTE.

Possono dividersi in T_____ e A_____.

Quelli Adriatici sono BREVI / LUNGHI , hanno un percorso RETTILINEO / TORTUOSO e sono disposti a PETTINE.

Quelli Tirrenici sono più LUNGHI / BREVI hanno un percorso TORTUOSO / RETTILINEO.

Sono ad esempio il T_____ e l' A_____.

Il **Tevere** nasce dal monte F_____ ed ha una foce ad E_____ cioè a imbuto.

L'**Arno** nasce sul monte F_____ e scorre in Toscana / Umbria.



FIUMARE

Si trovano a SUD / NORD sono brevi e completamente a _____ d'estate mentre hanno piene in p_____.

- I principali fiumi d' Italia nascono da due catene montuose che sono:

_____ e _____

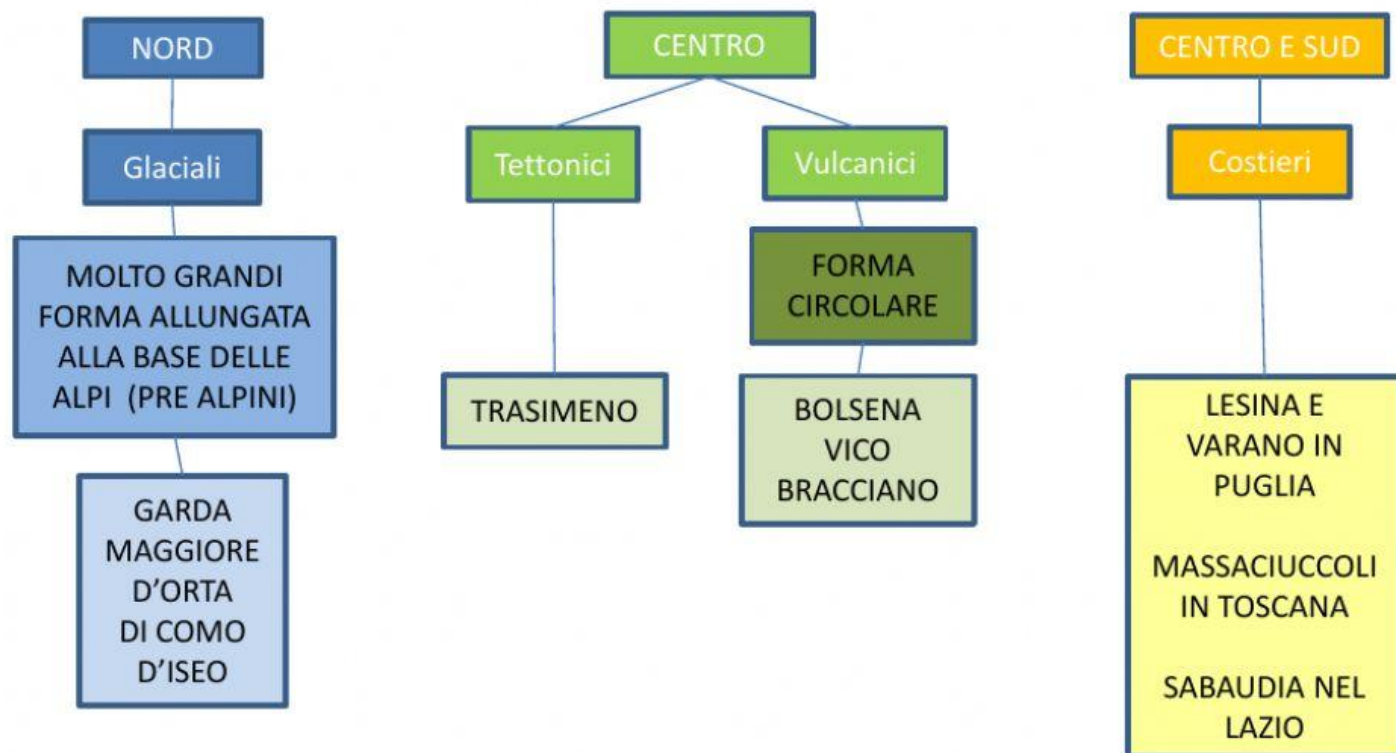
- Quali sono i 2 fiumi più lunghi d'Italia? _____ e _____. Sono entrambi fiumi Alpini o Appenninici? _____.
- In quale mare sfociano Po e Adige? _____
- Il Po ha la foce a delta o a estuario? _____
- L'Adige ha la foce a delta o a estuario? _____
- Tevere e Arno sono Alpini o Appenninici? _____. A quale versante appartengono? _____
- I fiumi del versante Adriatico sono: BREVI LUNGHI RETTILINEI TORTUOSI
TORRENTIZZI ALPINI
- I fiumi Alpini sono : BREVI LUNGHI GRANDE PORTATA PICCOLA PORTATA

Laghi d'Italia

Laghi italiani
Maestrasabrilla

Laghi italiani
Alessandra g.

In Italia possiamo trovare vari tipi di **laghi**:



I Laghi più grandi e importanti d'Italia si trovano a NORD / SUD.
Sono laghi PRE-ALPINI / APPENNINICI di origine GLACIALE / ARTIFICIALE.
Hanno una forma CIRCOLARE / ALLUNGATA. Sono ad esempio: _____

Nell'Italia centrale i laghi sono più PICCOLI / GRANDI . Il più grande è il T_____ in
U_____ ed ha origine TETTONICA / COSTIERA.
Gli altri laghi del centro hanno origine GLACIALE / VULCANICA e quindi una forma ALLUNGATA /
CIRCOLARE. Si trovano prevalentemente nel L_____ e sono ad esempio:

Nell'Italia del sud i laghi sono prevalentemente VULCANICI / COSTIERI e sono ad esempio:

Indica quali sono i LAGHI GLACIALI, LAGHI VULCANICI E LAGHI COSTIERI:

CARTINA MUTA DEI LAGHI D'ITALIA



Pianure d'Italia

Le pianure in italia
Classe quarta
Scuola primaria
Maestra cristina r

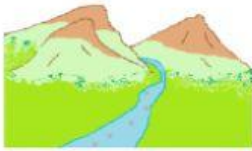
NORD	TAVOLIERE	VASTA	PADANA	23%	PO	RILIEVI	SUD	200
------	-----------	-------	--------	-----	----	---------	-----	-----

LA PIANURA E' UNA _____ DISTESA DI TERRENO PRIVA DI
_____ CHE NON SUPERA I _____m DI ALTITUDINE

In Italia le pianure occupano solo il _____ del territorio. La pianura più estesa si trova a
_____: La pianura _____ che prende il nome dal grande fiume che la attraversa: il
_____.

La seconda pianura italiana invece si trova a _____ ed è il _____ DELLE PUGLIE.

Le pianure italiane hanno origini diverse: (trascina vicino al disegno la definizione corretta)



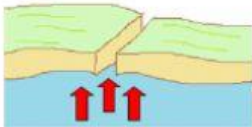
PIANURE ALLUVIONALI:

Originate dall'uomo con opere di prosciugamento del terreno e disboscamento



PIANURE VULCANICHE:

Originate dal sollevamento del fondo marino



PIANURE DI SOLLEVAMENTO:

Originate dalle ceneri eruttate dal vulcano



PIANURE DA BONIFICA DI PALUDI:

Originate dai detriti trasportati dai fiumi.

Trascina sotto ogni definizione il nome delle pianure e scrivi sulla cartina i numeri corrispondenti

① **PIANURE ALLUVIONALI:**

② ③ **PIANURE DI SOLLEVAMENTO:**

④ ⑤ ⑥ **PIANURE DA BONIFICA DI PALUDI:**

⑦ ⑧ **PIANURE VULCANICHE:**



PIANURA PADANA

TAVOLIERE
DELLE PUGLIE

CAMPIDANO

AGRO PONTINO

MAREMMA

PIANA DI CATANIA

PIANURA CAMPANA

AGRO ROMANO