

# SUMA Y RESTA

## Resuelve los problemas.

1. **H**abía 5 peras y me comí 2 ¿**C**uántas quedaron?





$$5 - 2 = \square$$

2. **H**abía 6 bollitos y me comí 2 ¿**C**uántos quedaron?



$$\square - \square = \square$$

3. **T**enía 7 catarinas y me encontré 3 ¿**C**uántas tengo ahora?





$$\square + \square = \square$$

4. **T**enía 10 galletas y me comí 3 ¿**C**uántas tengo ahora?



$$\square - \square = \square$$

5. **T**engo 5 flores, si compro otras 3 ¿**C**uántas voy a tener en total?



$$\square + \square = \square$$

**Profra. Olivia**