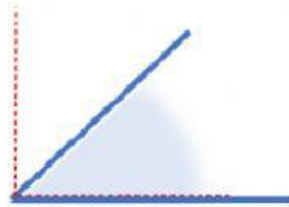


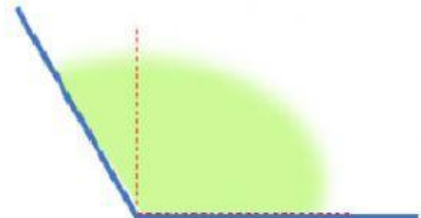
# TIPOS DE ANGULOS



ÁNGULO RECTO


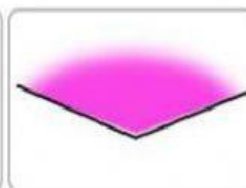
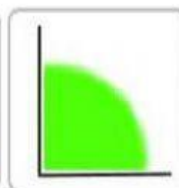
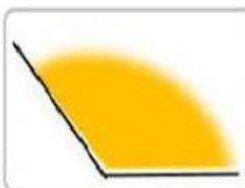
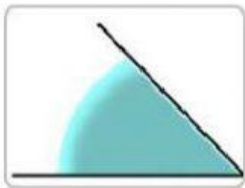


ÁNGULO AGUDO



ÁNGULO OBTUSO

Clasifica estos ángulos según sean obtusos, agudos o rectos.



ÁNGULOS  
AGUDOS

ÁNGULOS  
RECTOS

ÁNGULOS  
OBTUSOS



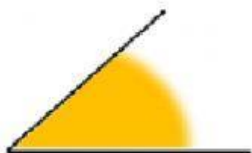

Completa con estas palabras:

agudo

recto

obtuso

Este ángulo



es un ángulo

Este ángulo



es un ángulo

Este ángulo



es un ángulo

más

$90^\circ$

menos

El ángulo recto mide

El ángulo agudo mide

de  $90^\circ$ .

El ángulo obtuso mide

de  $90^\circ$ .