



المجلس	2	الصف	الثامن
النطاق	6	الدرس	5.2 فـ 2
المدرسة	مدرسة الزوراء 1 للتعليم الأساسي ح 2	Exit Card	4
الاسم		الشعبة	

1. ما وظيفة العدسات ؟

a. كسر الضوء .

b. عكس الضوء .

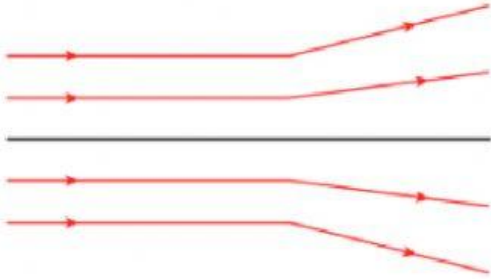
2. حدد نوع العدسة في كل صورة ؟



3. ما نوع العدسة في هذا الرسم التوضيحي ؟

a. عدسة محدبة .

b. عدسة مقعرة .



4. ما أفضل وصف للعدسة المقعرة ؟

a. مركزها أكثر سمكاً من الحواف .

b. مركزها أقل سمكاً من الحواف .