



# “BELAJAR GEOGRAFI HEPI”

## LEMBAR KERJA PESERTA DIDIK DIGITAL



Belajar Geografi Itu Hepi



@Geohepi2018



@Geo\_Hepi



M Rifky AZ

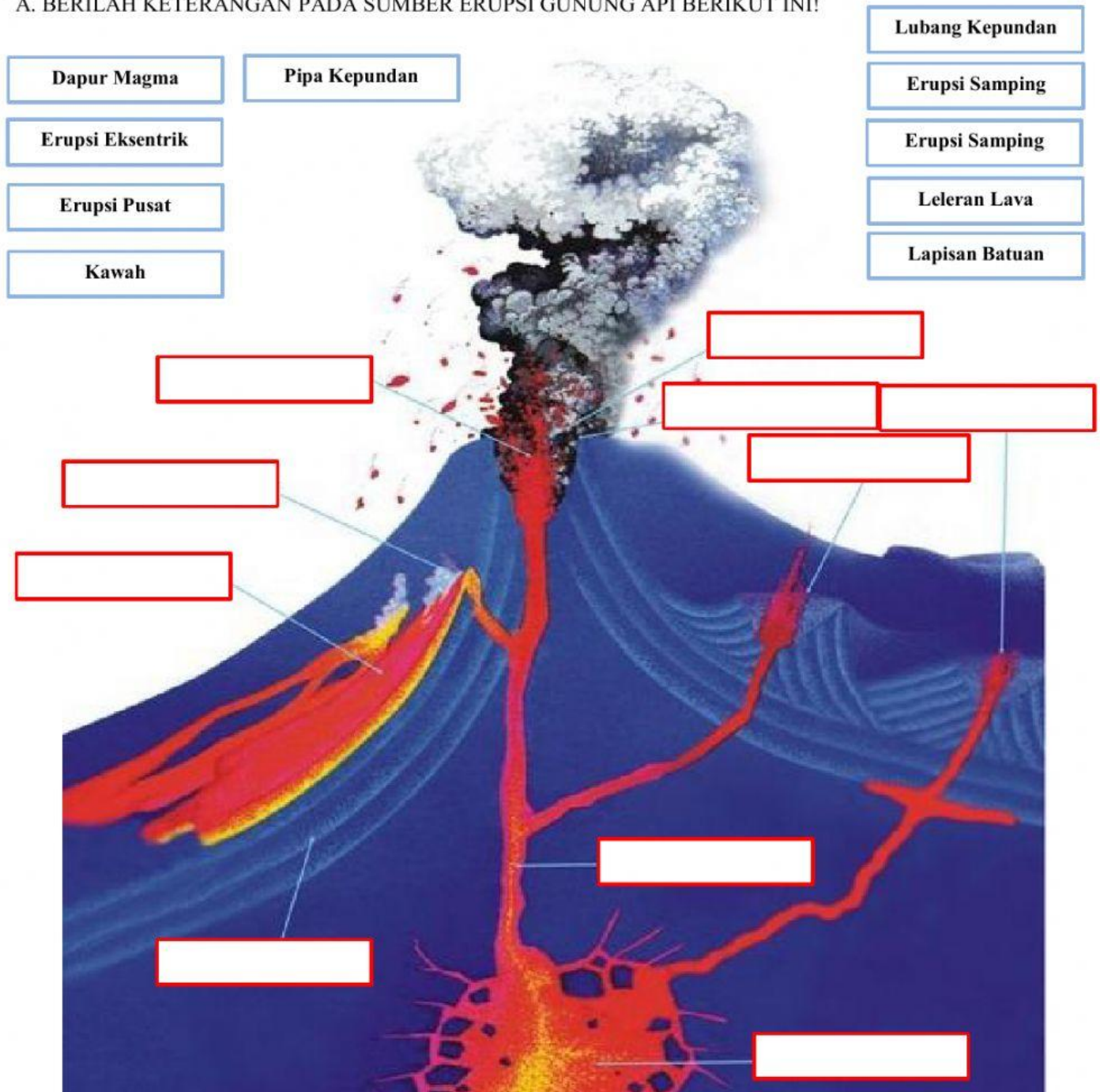
### KOMPETENSI DASAR

#### 3.5 Menganalisis dinamika litosfer dan dampaknya terhadap kehidupan

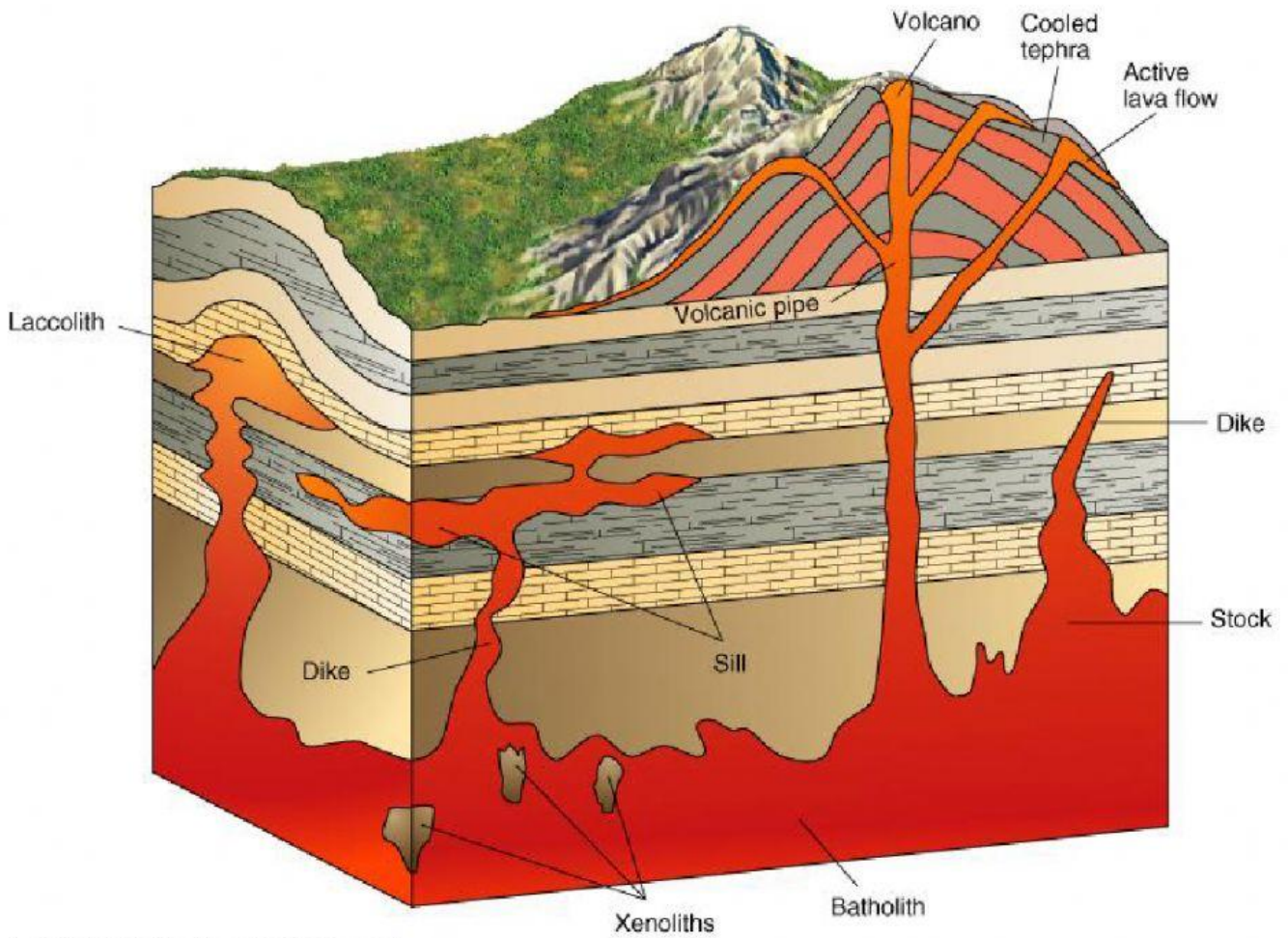
#### MATERI VULKANISME

<b>NAMA</b>	:	
<b>SEKOLAH</b>	:	
<b>KELAS</b>	:	

A. BERILAH KETERANGAN PADA SUMBER ERUPSI GUNUNG API BERIKUT INI!



B. PERHATIKAN GAMBAR BERIKUT SEBAGAI DASAR MELENGKAPI GAMBAR DIBAWAHNYA!



Copyright 2000 John Wiley & Sons, Inc. All rights reserved.



**LAKOLIT**

**DIKE**

**BATOLIT**


**SIL**

C. BERILAH KETERANGAN KARAKTERISTIK BENTUK GUNUNG API BERIKUT DENGAN CHECK LIST!



<input type="checkbox"/>	Dibangun oleh erupsi eksplosif	<input type="checkbox"/>	Dibangun oleh erupsi eksplosif	<input type="checkbox"/>	Dibangun oleh erupsi eksplosif
<input type="checkbox"/>	Dibangun oleh erupsi berupa piroklastik dan lava	<input type="checkbox"/>	Dibangun oleh erupsi berupa piroklastik dan lava	<input type="checkbox"/>	Dibangun oleh erupsi berupa piroklastik dan lava
<input type="checkbox"/>	Dibangun oleh aliran lava	<input type="checkbox"/>	Dibangun oleh aliran lava	<input type="checkbox"/>	Dibangun oleh aliran lava
<input type="checkbox"/>	Hanya memiliki letusan effusif	<input type="checkbox"/>	Hanya memiliki letusan effusif	<input type="checkbox"/>	Hanya memiliki letusan effusif
<input type="checkbox"/>	Memiliki letusan eksplosif dan effusif	<input type="checkbox"/>	Memiliki letusan eksplosif dan effusif	<input type="checkbox"/>	Memiliki letusan eksplosif dan effusif
<input type="checkbox"/>	Memiliki erupsi yang dominan gas	<input type="checkbox"/>	Memiliki erupsi yang dominan gas	<input type="checkbox"/>	Memiliki erupsi yang dominan gas
<input type="checkbox"/>	Magma bersifat asam	<input type="checkbox"/>	Magma bersifat asam	<input type="checkbox"/>	Magma bersifat asam
<input type="checkbox"/>	Magma bersifat basa	<input type="checkbox"/>	Magma bersifat basa	<input type="checkbox"/>	Magma bersifat basa


D. PASANGKAN DENGAN MEMBERI PANAH JENIS GUNUNG API BERIKUT!



**PELLE**

**STROMBOLI**

**HAWAII**



**PERRET**



**ST VINCENT**



**VULCANO**



**MERAPI**

E. JAWABLAH PERTANYAAN BERIKUT!

Salah satu dampak positif tektonisme terhadap kehidupan adalah...

- A. Pengeboran minyak dan gas ditemukan
- B. Terbentuknya lereng pegunungan
- C. Adanya letusan gunung berapi
- D. Tanah semakin subur
- E. Terjadi gempa bumi

**JAWAB DISINI  
TULIS  
A/B/C/D/E**

Ledakan terjadi karena dapur magma dalam gasnya bersifat asam. ledakan ini menyebabkan benda-benda padat, seperti bom, lapili, kerikil, dan debu vulkanik keluar dari kawah gunung Merapi. Peristiwa ini disebut dengan ...

- A. Erupsi areal
- B. Erupsi efusif
- C. Erupsi eksplosif
- D. Ekstrusi magma
- E. Intrusi magma

**JAWAB DISINI  
TULIS  
A/B/C/D/E**



**BELAJAR GEOGRAFI HEPI BERSAMA GEOHEPI**