


Numeración del 100 al 299

Completa la descomposición del número del camión


C	D	U
1	2	6
1	0	
0		6
0	2	

100	+		+	
100	+	0	+	
0	+		+	6
	+		+	

Une con flechas

 $2C + 6U$


Doscientos cincuenta

 $2C + 5D$


Ciento veintitrés

 $1C + 2D + 3U$

Doscientos seis

 $2C + 22U$

Ciento veintidós

 $1C + 22U$

Doscientos veintidós

Marca los números que son mayores que 100 y menores que 200.

216 198 83 209 105 296 144 180 50

Lee y marca el número que corresponde.

- Es menor que 215.
- La cifra de las unidades es 4.

201

215

214

241

- Tiene 2 centenas.
- Es mayor que 250.

293

232

128

242

Fíjate en el ejemplo y calcula mentalmente

	+1	-1	+10	-10	+100	-100
119	120	118	129	109	219	19
199						
101						
200						
219						

