

Name -

CLASS :- V SUBJECT :- MATHS


I. సరియైన సమాధానంను క్లిక్ చేయండి. Click the right answer.

1. ఇది ఒక.....This is a...

టాన్ గ్రామ్-Tangram

వృతం-Circle

చతురస్రం-Square



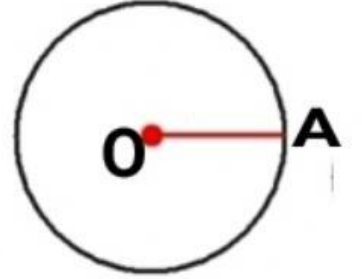
2. ఈ వృతం లోని బిందువు 'O' పేరు.....

The point 'O' in this circle is named

వ్యాసార్థం-Radius

వృత్త కేంద్రం-Centre

వ్యాసం-Diameter



3. ఈ వృత్తంలోని OAనుఅంటారు.

What we called OA in the given circle.


వ్యాసార్థం-Radius

వృత్త కేంద్రం-Centre

వ్యాసం-Diameter

4. ఈ క్రింది వానిలో ఎక్కువ వ్యాసార్థం ఉన్న వృత్తాన్ని క్లిక్ చేయండి.

Guess which circle is longer radius and click to the correct one.



5. ఈ క్రింది వానిలో తక్కువ వ్యాసార్థం ఉన్న వృత్తాన్ని క్లిక్ చేయండి.

Guess which circle is shorter radius and click to the correct one.

