

## Repaso de Matemática

Nombre: \_\_\_\_\_ Fecha: \_\_\_\_\_

Reflexiona y responde:



Un grifo echa 24 litros de agua en un minuto. ¿Cuántos litros echará en una hora?

Una hora tiene \_\_\_\_\_ minutos.

¿Qué operación tengo que hacer? \_\_\_\_\_

SOLUCIÓN: Echará \_\_\_\_\_ litros en una hora.

Mario vio el sábado una película que duró 160 minutos y su amigo, Carlos, una que duró dos horas y media. ¿Cuál de los dos vio la película de mayor duración?

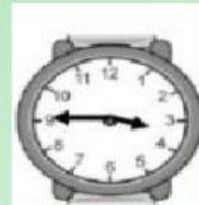
Dos horas tienen \_\_\_\_\_ minutos.

Media hora = \_\_\_\_\_ minutos.


La película que vio Mario duró: \_\_\_\_\_ minutos.

La película que vio Carlos duró: \_\_\_\_\_ minutos.

SOLUCIÓN: \_\_\_\_\_ vio la película de mayor duración.



¿Cuál es la edad de mi abuela, si tiene 18 lustros con 730 días?

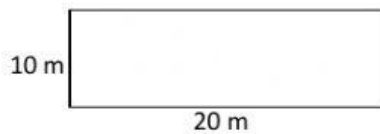


Una panadería abre desde las 8 de la mañana hasta las 8 de la noche.  
¿Cuántos minutos permanece abierta?

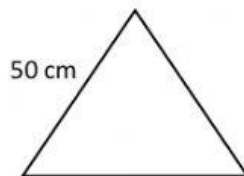


## El perímetro

**Obtén** mentalmente el perímetro de las siguientes figuras. Luego, **escribelo** en el espacio.



P=



P=



P=

Realiza los siguientes cálculos y **escoge** la respuesta correcta.

- ❖ ¿Cuánto es la tercera parte de 90 por 20 menos 1? = \_\_\_\_\_
- ❖ La cuarta parte de 120 + el triple de 2 UMi = \_\_\_\_\_
- ❖ 2 DMi + 1 CMi + 5 UMi + 3 CM – 10 = \_\_\_\_\_



## Sudoku manía

¡Diviértete y completa el Sudoku!

	3	1	6		7		8	4
6	4	9	8			2	5	7
8	2		5	9	4	6		3
4	9		1		5	8	3	2
	1	8		6	9	7		5
7		3	2	4				6
9		2	4		1	3	7	8
1	8	5			6			9
3		4	9	8	2	5	6	1

## Reglas del sudoku

Este juego está compuesto por una cuadrícula de 9x9 casillas, dividida en regiones de 3x3 casillas. Partiendo de algunos números ya dispuestos en algunas de las casillas, hay que completar las casillas vacías con dígitos del 1 al 9 sin que se repitan por fila, columna o región.

Reglas:

*Regla 1:* hay que completar las casillas vacías con un solo número del 1 al 9.

*Regla 2:* en una misma fila no puede haber números repetidos.

*Regla 3:* en una misma columna no puede haber números repetidos.

*Regla 4:* en una misma región no puede haber números repetidos.

*Regla 5:* la solución de un sudoku es única.

