

e) Agora, escreva o sucessor de cada um dos números que compõem a linha 4.


f) Observe a coluna 7 e responda:

- Qual é o número em que os algarismos da centena, da dezena e da unidade são iguais? _____
- Qual é o valor absoluto do algarismo das centenas? _____
- E qual é o valor relativo desse algarismo? _____


2 Substitua as colunas e linhas pedidas pelos seus respectivos números e some-os registrando nos quadros correspondentes.

- a) Linha 5 com coluna 2 + linha 2 com coluna 3.
- b) Linha 9 com coluna 4 + linha 1 com coluna 6.
- c) Linha 6 com coluna 4 + linha 3 com coluna 3.
- d) Linha 1 com coluna 5 + linha 4 com coluna 1.


(a)



(b)



(c)



(d)

