

NAMA:	KELAS:
-------	--------

KD. 3.1. Memahami konsep wilayah dan perwilayahan dalam perencanaan tata ruang wilayah nasional, Provinsi, dan Kabupaten/Kota MATERI PENGERTIAN, KONSEP, JENIS DAN KLASIFIKASI WILAYAH

Silahkan Tonton Video Berikut agar dapat mengerjakan Lembar Kerja!












Setelah Menonton Video Tersebut selanjutnya kerjakan Lembar Kerja Berikut!

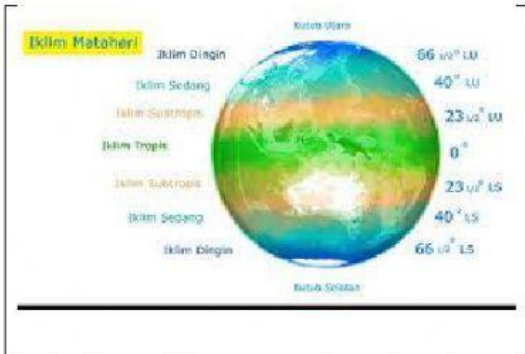
PASANGKAN DENGAN MENARIK PANAH NAMA TOKOH DAN PENGERTIANNYA!

PP NP.47 TAHUB 1997	Wilayah adalah kompleks tanah, air, udara, tumbuhan, hewan dan manusia dengan hubungan khusus sebagai kebersamaan yang kelangsungannya mempunyai karakter khusus dari permukaan bumi.
A.J. HERISTON	Wilayah adalah ruang yang merupakan kesatuan geografis beserta segenap unsur terkait padanya yang batas dan sistemnya ditentukan berdasarkan aspek administratif dan/aspek fungsional.
FANNEMAR	Wilayah adalah bagian dari permukaan bumi yang berbeda dan ditunjukkan oleh sifat-sifat yang berbeda dari lainnya
R.E. DICKINSON	Wilayah adalah area yang digolongkan melalui kenampakan permukaan yang sama dan dikontraskan dengan area sekitarnya.
TAYLOR	Wilayah adalah sesuatu yang kondisinya fisiknya homogen.

BERIKAN TANDA CENTANG JENIS WILAYAH SECARA UMUM MANA YANG TERMASUK NATURAL REGION!

SOAL PILIHAN GANDA SILAHKAN JAWAB PADA KOLOM JAWABAN!



Berdasarkan gambar berikut di golongkan dengan jenis wilayah.... Karena....

- A. Formal karena dicirikan berdasarkan keseragaman atau homogenitas tertentu
- B. Fungsional karena dicirikan adanya wilayah yang saling terkait
- C. Formal karena dicirikan oleh fenomena tertentu
- D. Fungsional karena berdasarkan keberagaman atau herogenitas tertentu
- E. Nodal karena terdapat pusat kegiatan

Jawab disini!



Berdasarkan gambar berikut di golongkan dengan jenis wilayah.... Karena....

- A. Formal karena dicirikan berdasarkan keseragaman atau homogenitas tertentu
- B. Fungsional karena dicirikan adanya wilayah yang saling terkait
- C. Formal karena dicirikan oleh fenomena tertentu
- D. Fungsional karena berdasarkan keberagaman atau herogenitas tertentu
- E. Nodal karena terdapat pusat kegiatan

Jawab disini!

TARIK NAMA KLASIFIKASI WILAYAH KEMUDIAN PASANGKAN PADA GAMBAR!



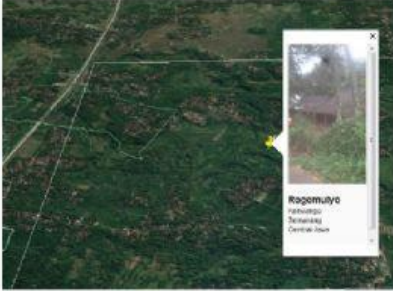
CORE REGION

DEPRESED REGION

SPECIAL PROBLEM REGION

DEVELOPMENT AXES

RESOURCE FRONTIER REGION



JIKA SUDAK SELESAI SEMUA DI KERJAKAN SELANJUTNYA KLIK

FINISH DAN KEMUDIAN CHECK MY ANSWER

TARIK KE ATAS DEKAT NAMA KALIAN MAKA NILAI KELUAR SCREENSHOT HASIL KIRIMKAN KE SAYA!

SEMOGA MENDAPAT NILAI YANG MAKSIMAL!



BELAJAR GEOGRAFI HEPI