


## Arreglos rectangulares "Dibujando multiplicaciones"

Instrucciones: Observa y cuenta los cuadros en cada arreglo rectangular, después únelos con su resultado correspondiente.




$$10 \times 1 = 10$$

$$1 \times 10 = 10$$




$$8 \times 2 = 16$$

$$2 \times 8 = 16$$



$$3 \times 2 = 6$$

$$2 \times 3 = 6$$



$$5 \times 4 = 20$$

$$4 \times 5 = 20$$



$$7 \times 6 = 42$$

$$6 \times 7 = 42$$

Lizbeth.Hdz

