

Tabla înmulțirii

1) $2 \times 4 = \square$

$5 \times 8 = \square$

$8 \times 3 = \square$

$3 \times 5 = \square$

$6 \times 6 = \square$

$7 \times 4 = \square$

$4 \times 4 = \square$

$5 \times 5 = \square$

$9 \times 9 = \square$

$3 \times 6 = \square$

$7 \times 7 = \square$

$8 \times 7 = \square$

2) Adevărat (A) sau fals (F)?

$7 \times 3 = 4 \times 5$

$7 \times 9 < 8 \times 8$

$8 \times 9 = 65 + 7$





3)

 \times  = 100 +  = 

 \times  = 60 -  -  = 

 \times  = 30 =  =

4) Ajută-l pe Moș Crăciun să parcurgă drumul presărat cu „obstacole” matematice:

 2×3  $\times 3$ $- 8$ $\times 10$  $- 30$  =