

MATEMÁTICAS. NÚMEROS

NÚMEROS ORDINALES



NOMBRE: _____

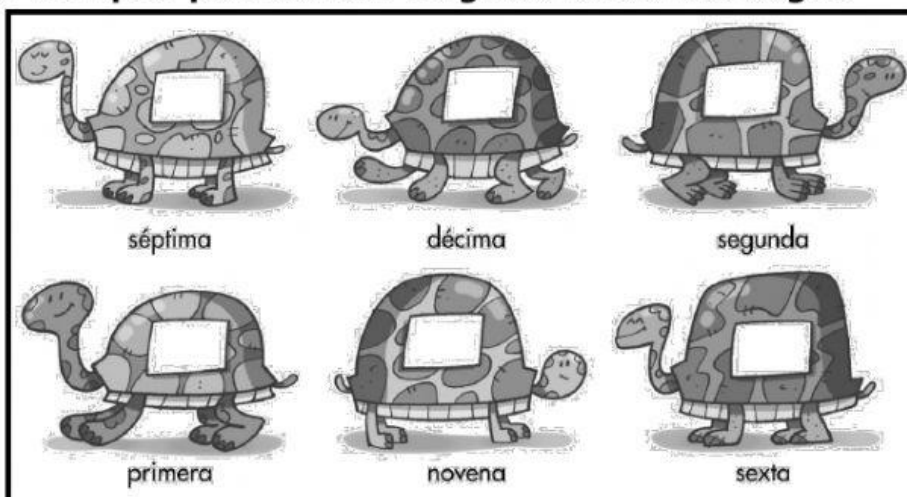


1º. / 1º.	primero, primer
1ª.	primera
2º.	segundo
2ª.	segunda
3º. / 3º.	tercero, tercer
3ª.	tercera
4º.	cuarto
4ª.	cuarta
5º.	quinto
5ª.	quinta
6º.	sexto
6ª.	sexta
7º.	séptimo
7ª.	séptima
8º.	octavo
8ª.	octava
9º.	noveno
9ª.	novena
10º.	décimo
10ª.	décima

Los números ordinales se utilizan para indicar el orden.



Ej. 1. Escribe en qué puesto ha llegado cada tortuga.



Ej. 2. Lee el número ordinal en qué ha llegado cada animal.

Han hecho una carrera y han llegado en este orden

10°	9°	8°	7°	6°	5°	4°	3°	2°	1°

Ej. 3. Escribe S en el antepenúltimo caracol. Escribe DL en el caracol que va delante del séptimo. Escribe DT en el que va después del tercer caracol.

--	--	--	--	--	--	--	--	--	--

Ej. 4. Escribe V si es verdadero y F si es falso

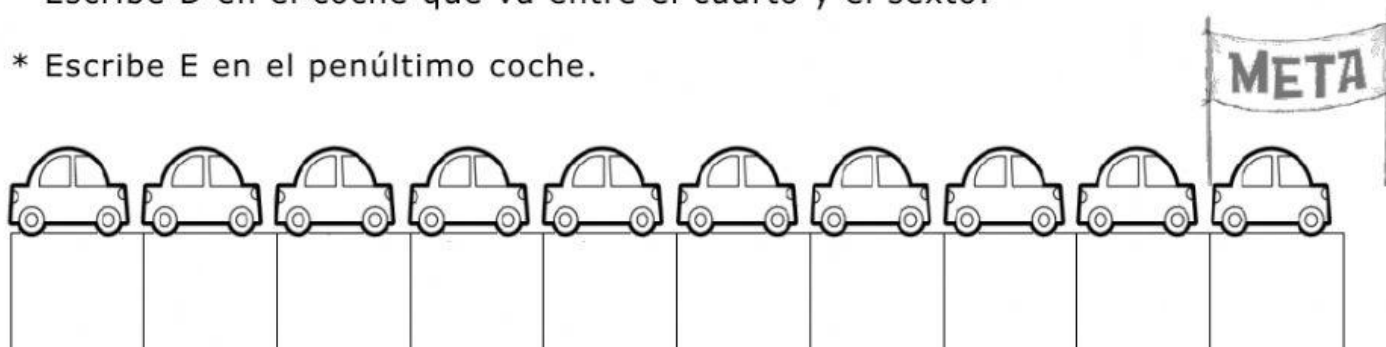
Entre el quinto y el tercero está el sexto. → ☐

El anterior al décimo es el noveno. → ☐

Dos puestos delante del sexto está el cuarto. → ☐


Ej. 5. Lee y escribe

- * Escribe A en el coche que va delante del 2º.
- * Escribe B en el coche que va detrás del séptimo.
- * Escribe D en el coche que va entre el cuarto y el sexto.
- * Escribe E en el penúltimo coche.




Ej. 6. Contando de derecha a izquierda, escribe.

- Escribe F en la antepenúltima persona.
- Escribe G en la persona que va antes de la octava.
- Escribe H en la persona posterior a la 4ª.



Ej. 7. Fíjate en esta fila de personas.

- La antepenúltima persona va en _____ lugar.
- La persona que va dos puestos después de la 3ª está en _____ lugar.
- La persona que va tres puestos antes de la séptima va en _____ lugar.



Ej. 8. Fíjate en este edificio de varias plantas.

- Tomás vive en la primera planta. Escribe T.
- María vive en la tercera planta. Sube tres. ¿ A qué planta llega ? Escribe M.
- Juan vive en la 5ª. planta. Baja dos. ¿ A qué planta llega ? Escribe J.
- Ana vive en la antepenúltima planta. Escribe A.

