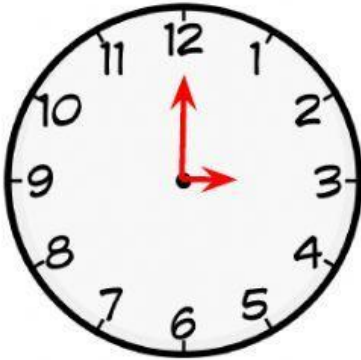


## Quelle heure est-il ?

- Reliez les horloges qu'ont la même heure.



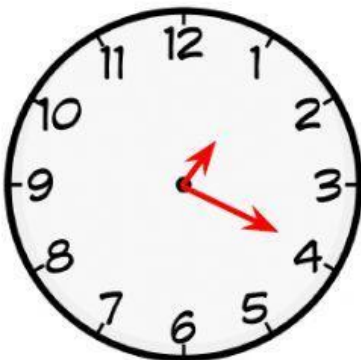
Il est **douze heures** et demie

**12 : 30**



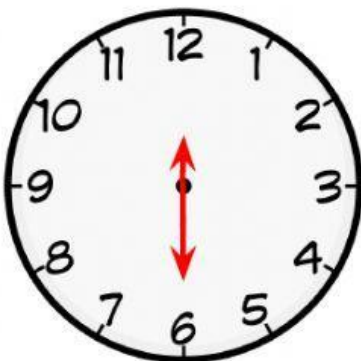
Il est **une heure** vingt

**01 : 20**



Il est **sept heures** dix

**07 : 10**



Il est **trois heures** pile

**03 : 00**