

Pirámides de sumas

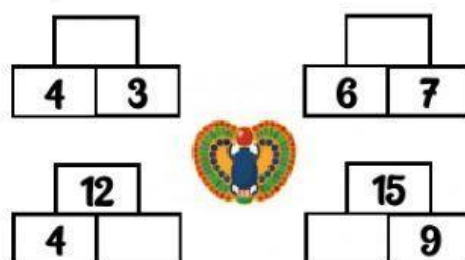


SUMA LAS 2 BASES DE CADA RECÁNGULO PARA ENCONTRAR EL RESULTADO Y LLEGA A LO MÁS ALTO DE LA PIRÁMIDE.

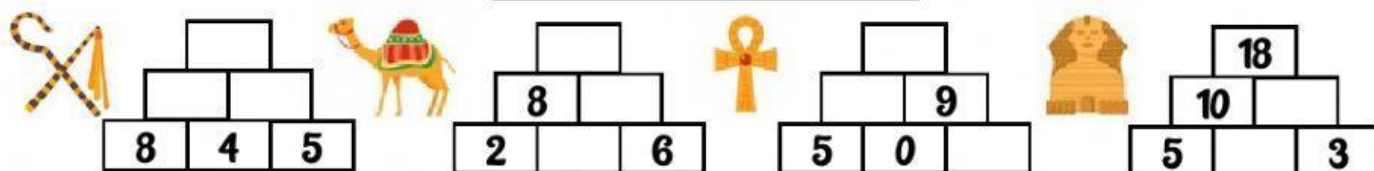
Ejemplo

Para encontrar el 5 sumamos las bases, es decir el $2+3$

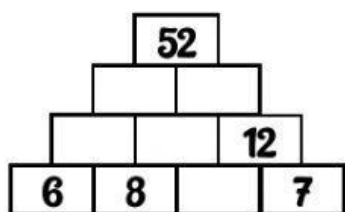
PIRÁMIDE DE 2 NIVELES



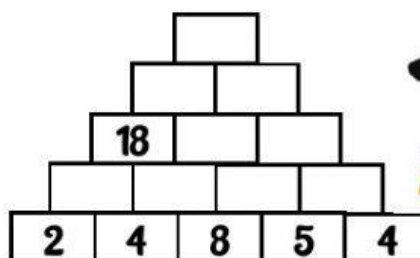
PIRÁMIDES DE 3 NIVELES



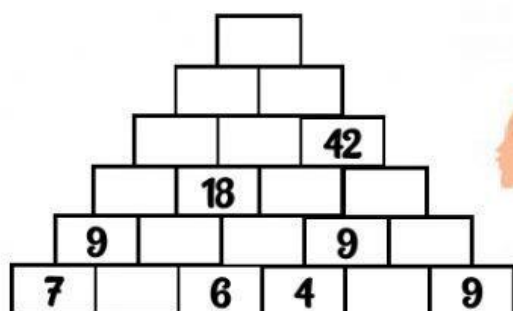
PIRÁMIDE DE 4 NIVELES



PIRÁMIDE DE 5 NIVELES



PIRÁMIDE DE 6 NIVELES



PIRÁMIDE DE 8 NIVELES

