

El continente europeo

EUROPA FÍSICA

Presta atención a los siguientes vídeos:

👁 El relieve de Europa: <https://www.youtube.com/watch?v=GIW7LutOsrc>

👁 Mapa físico de Europa: <https://www.youtube.com/watch?v=-XbV7cyqfvQ>

El siguiente mapa también te puede ayudar:



1. Señala si las siguientes afirmaciones sobre el relieve europeo son verdaderas (V) o falsas (F).

- Europa está separada de Asia por los Montes Escandinavos V F
- Los sistemas montañosos se sitúan principalmente en el sur y en el centro. V F
- Los sistemas montañosos se caracterizan por ser elevados y escarpados. V F
- La llanura más importante es la Gran Llanura Europea que se sitúa en el sur de Europa. V F
- El relieve litoral es muy recortado, con numerosos entrantes y salientes. V F
- Los ríos más caudalosos son los de la vertiente mediterránea, pues reciben abundantes lluvias. V F
- El pico más alto de Europa es el Mont Blanc, en los Alpes, con 4.810 m V F

2. Escribe en el lugar correspondiente de este mapa los siguientes mares y océanos que bañan Europa. No olvides que los nombres propios se escriben con mayúsculas.

Océano Atlántico Océano Glacial Ártico Mar Mediterráneo Mar de Noruega
 Mar Blanco Mar Negro Mar Adriático Mar Tirreno Mar Egeo
 Mar Báltico Mar del Norte Mar Caspio Mar Jónico Mar Cantábrico

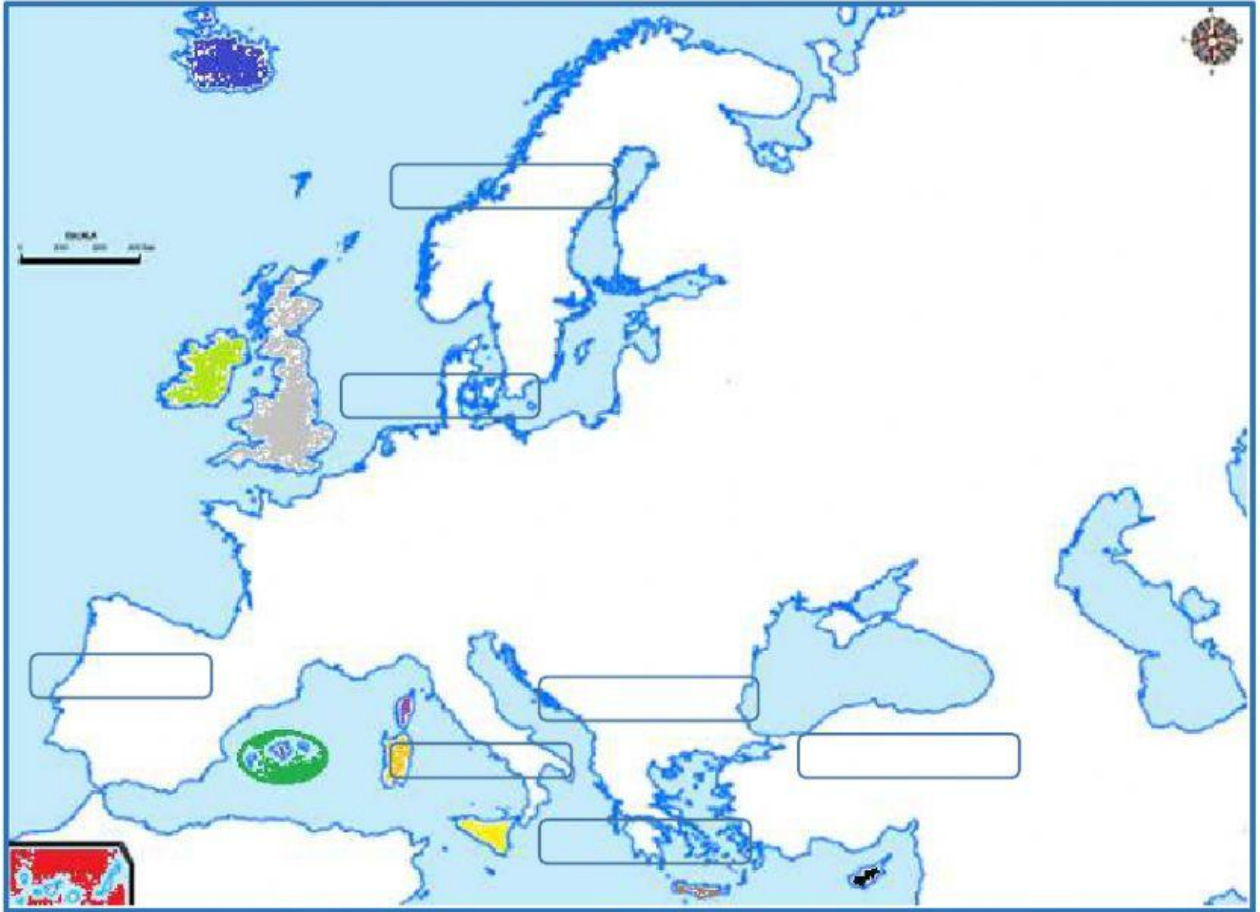












3. Une con flechas cada río con la vertiente a la que pertenezca.

<i>Loira</i>	●	●	OCÉANO ATLÁNTICO
<i>Rin</i>	●	●	MAR BÁLTICO
<i>Vístula</i>	●	●	MAR DEL NORTE
<i>Danubio</i>	●	●	MAR ADRIÁTICO
<i>Ural</i>	●	●	MAR CASPIO
<i>Po</i>	●	●	MAR NEGRO
<i>Ebro</i>	●	●	MAR DE BARENTS
<i>Pechora</i>	●	●	MAR MEDITERRÁNEO

6. Sitúa cada península en su lugar adecuado. Luego escribe el nombre de cada isla correctamente atendiendo a su color.

P. de Jutlandia P. Escandinava P. Ibérica
 P. Balcánica P. del Peloponeso P. Itálica P. de Anatolia



7. Sitúa cada sistema montañoso europeo en su lugar correspondiente.

Montes Escandinavos

Montes Urales

Montes Grampianos

Pirineos

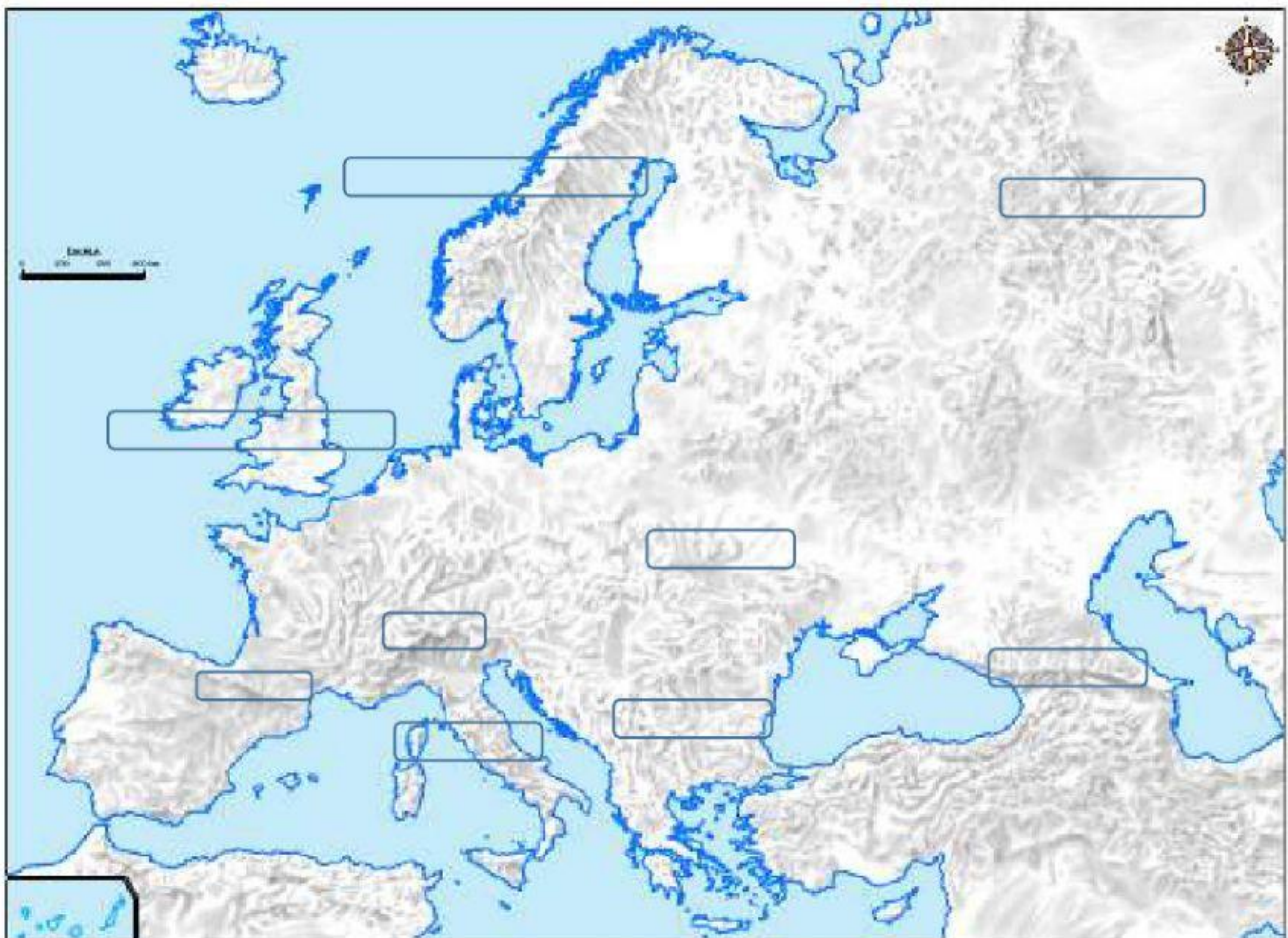
Cárpatos

Cáucaso

Balcanes

Alpes

Apeninos



8. Relaciona cada país con sus accidentes geográficos.

Península Ibérica	●	●	ITALIA	●	●	Río Po
Península del Peloponeso	●	●	GRECIA	●	●	Río Ebro
Apeninos	●	●	ESPAÑA	●	●	Creta
Península Escandinava	●	●	SUECIA	●	●	Mar del Norte
Península de Jutlandia	●	●	DINAMARCA	●	●	Alpes
Río Sena	●	●	ALEMANIA	●	●	Mar Báltico
Gran Llanura Europea	●	●	REINO UNIDO	●	●	Río Rin
Montes Grampianos	●	●	FRANCIA	●	●	Gran Bretaña