

Nama :

Kelas :

Pilih jawapan yang paling tepat.

- 10 Antara berikut, yang manakah fungsi tambahan yang sesuai untuk alat pendingin hawa? ~~AKBAT~~
- A Tentukan had suhu
 - B Tentukan ayunan bilah
 - C Mulakan kipas penghembus
 - D Mengeluarkan bunyi "beep" apabila mencapai had suhu

- 11 _____ ialah satu urutan langkah-langkah untuk menyelesaikan suatu masalah atau melaksanakan suatu tugas.
- A Output
 - B Pseudokod
 - C Algoritma
 - D Carta alir

- 12 Antara berikut, yang manakah **benar** tentang pseudokod?
- A Bahasa atur cara komputer sebenar
 - B Logik atur cara yang menggunakan bahasa komputer
 - C Bahasa komputer untuk menjalankan sesuatu tugas
 - D Sebagai panduan menulis atur cara komputer yang sebenar

- 13 Apakah perkataan yang pertama sekali perlu ditulis apabila menulis pseudokod?
- A TIBA
 - B MULA
 - C SEDIA
 - D MULA DI SINI





- 14 Gambar rajah yang menggunakan simbol-simbol geometrik untuk menunjukkan langkah-langkah dalam algoritma dikenali sebagai...
- A peta minda.
 - B carta alir.
 - C terminal.
 - D langkah-langkah.

- 15 Apakah nama simbol di bawah yang digunakan dalam carta alir?







- A Pilihan
- B Proses
- C Garis alir
- D Input/Output

- 16 _____ digunakan untuk menghubungkan simbol-simbol dalam carta alir.
- A Terminal
 - B Garis alir
 - C Pilihan
 - D Penyambung

- 17 Simbol manakah yang merujuk kepada penyambung dalam sesuatu carta alir?
- A 
 - B 
 - C 
 - D 

- 18 Dalam _____, suatu arahan atau urutan hanya akan dilaksanakan sekiranya syarat dalam pernyataan dipenuhi?
- A pilihan
 - B tunggal
 - C aplikasi
 - D output

- 19 Brandon hendak menggunakan pilihan tunggal dalam carta alir. Apakah jenis simbol yang akan digunakan olehnya?
- A 
 - B 
 - C 
 - D 

- 20 Apakah jenis pseudokod yang ditunjukkan dalam rajah di bawah?

```
MULA
BACA A
BACA B
Hasil bahagi = A/B
CETAK Hasil bahagi
TAMAT
```

- A Dwipilihan
- B Pilihan tunggal
- C Aliran secara urutan
- D Aliran secara rawak