

4

Problemas de

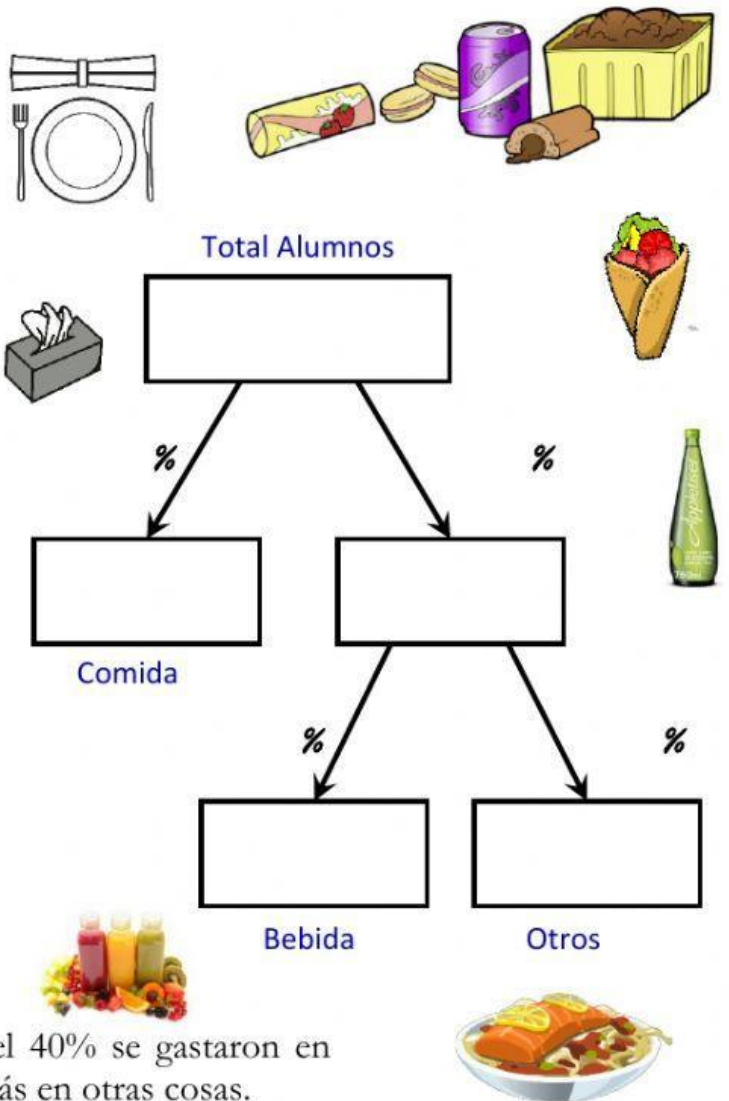
COMPRA PARA LA FIESTA DE FIN DE CURSO

Fueron al centro comercial 80 jóvenes para comprar lo necesario para la fiesta de fin de curso, de los cuales 28 fueron a por la comida. El 75% del resto fue a por la bebida y los demás a comprar las demás cosas (platos, vasos, servilletas...)

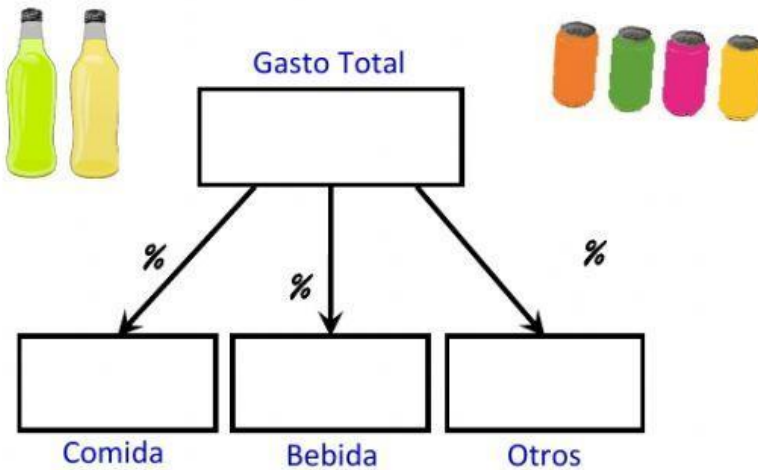
¿Qué porcentaje del alumnado **No** fueron a comprar comida? _____ %

¿Qué porcentaje de los que no compraron comida tampoco compraron bebida? _____ %

¿Cuántos alumnos **No** fueron a comprar bebida? _____ al.



En total se gastaron 900 € de los cuales el 40% se gastaron en comida, el 75 % del resto en bebida y lo demás en otras cosas.

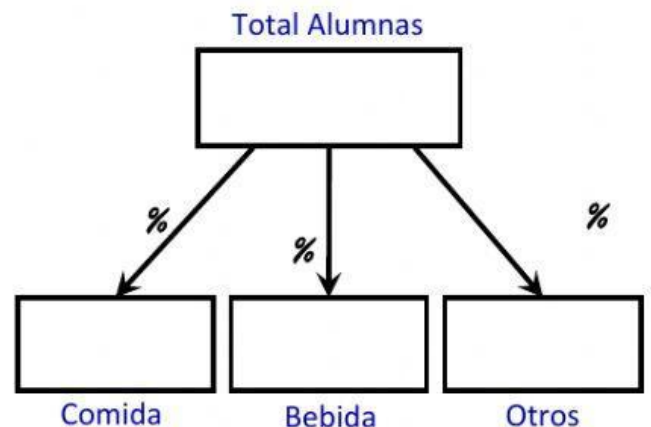


¿Qué porcentaje del gasto se destinó a otras cosas? _____ %

¿Cuánto dinero se gastó en comida? _____ €

¿Qué fracción del gasto **No** se destinó a bebida? _____ %

Son chicas el 75% de los que fueron a por comida, dos tercios de los que fueron a por bebida. También son chicas tres de los jóvenes que fueron a por otras cosas.



¿Cuántas alumnas fueron al centro comercial? _____ al

¿Qué porcentaje de las chicas fue a comprar otras cosas? _____ %