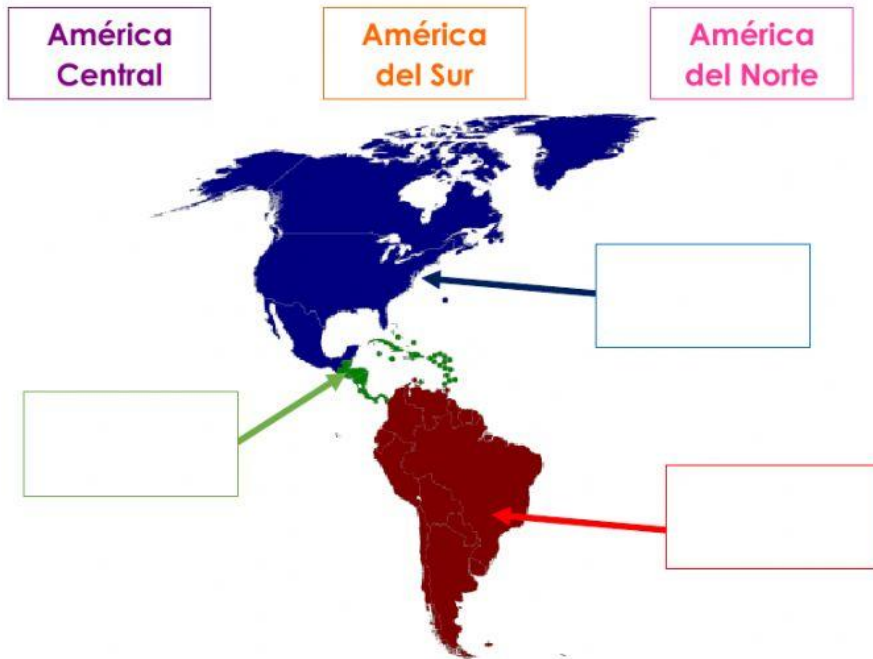


CUESTIONARIO DE GEOGRAFÍA

Nombre:

1. Arrastra los nombres al lugar que les corresponde en el continente americano.



2. Son un ejemplo de límites naturales.
- a) Puentes, muros y carreteras b) Ríos y montañas c) Señalamientos
3. ¿Cuáles son las formas de representar a la Tierra?
- a) Globo terráqueo y fotos b) Maquetas y vídeos c) Mapas y globo terráqueo
4. Fueron creadas por el hombre con el propósito de ubicar o encontrar un punto en la superficie terrestre.
- a) Líneas imaginarias b) Croquis c) Límites y fronteras
5. ¿Cuáles son los puntos cardinales?
- a) Norte, noreste, sur y suroeste b) Arriba, abajo, izquierda y derecha c) Norte, sur, este y oeste
6. Nuestro país está formado por:
- a) 16 alcaldías b) 32 entidades federativas c) No está dividida
7. Selecciona la parte de América donde se encuentra nuestro país.



Sudamérica

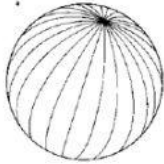


Centroamérica




Norteamérica

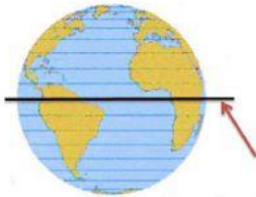
8. Une el dibujo de las líneas imaginarias con sus nombres.



Paralelos



Ecuador



Meridianos

9. Grandes porciones de tierra rodeadas de agua.

a) Continentes

b) Océanos

c) Entidades federativas

10. Elemento de los mapas y croquis que sirve para orientarnos, ya que tiene los puntos cardinales.

a) Cuadro de símbolos

b) Escala

c) Rosa de los vientos

11. Son un ejemplo de límites artificiales.

a) Puentes, muros y carreteras

b) Ríos y montañas

c) Señalamientos y ríos

12. Esquemas o dibujos que nos ayudan a ubicarnos o localizar un lugar específico.

a) Mapas

b) Croquis

c) Globo terráqueo

13. Une los símbolos de los croquis con su nombre correspondiente.



Servicio médico



Parada de autobús



Gasolinera

14. Grandes cantidades de agua que separan a los continentes.

- a) Continentes b) Océanos c) Ríos y lagos

15. La Ciudad de México está dividida en:

- a) 16 alcaldías b) 32 entidades federativas c) No está dividida

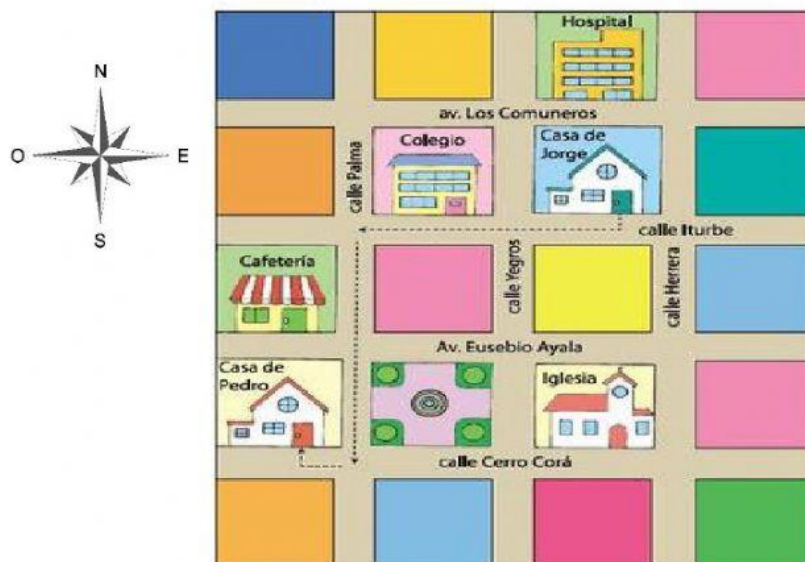
16. Son entidades federativas de México.

- a) Álvaro Obregón, Coyoacán e Iztacalco b) América, Europa y Oceanía c) Aguascalientes, Oaxaca y Yucatán

17. Son alcaldías de la Ciudad de México.

- a) Azcapotzalco, Cuajimalpa y Tláhuac b) Asia, Antártida y África c) Campeche, Morelos y Zacatecas

18. Observa el siguiente croquis y elige la opción que indica el camino de la casa de Jorge a la casa de Pedro.



- ✓ Dirígete dos calles hacia el Oeste en "Iturbe", después una calle hacia el Sur en "Palma", gira al Oeste y llegas a casa de Pedro.
- ✓ Dirígete dos calles hacia el Oeste en "Iturbe", después una calle hacia el Sur en "Palma", gira al Este en "Av. Eusebio Ayala", camina dos calles y llegas a casa de Pedro.
- ✓ Dirígete dos calles hacia el Oeste en "Iturbe", después dos calles hacia el Sur en "Palma", gira al Oeste y llegas a casa de Pedro.