






Οι αριθμοί μέχρι το 50  
(β' μέρος)

Συμπληρώνω τους αριθμούς που λείπουν:

				
1	11	21	31	41
3	13	23	33	43
5	15	25	35	45
7	17	27	37	47
9		29		49
10	20	30	40	50



Επίλεξε τον προηγούμενο και τον επόμενο.



	10	
--	----	--

	29	
--	----	--

	20	
--	----	--

	34	
--	----	--

	41	
--	----	--

	49	
--	----	--

	32	
--	----	--

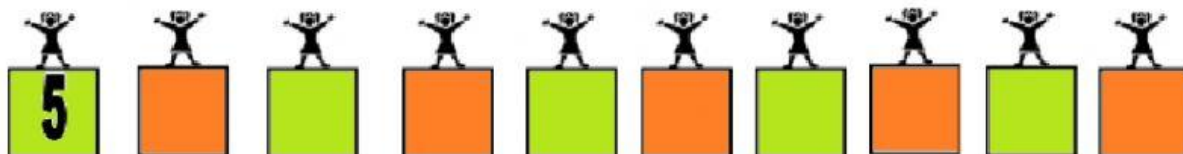
	19	
--	----	--



Μετρώ **ανά 10** μέχρι το 50.



Μετρώ **ανά 5** μέχρι το 50.



Τοποθετώ το κατάλληλο σύμβολο της ανισότητας (<,=,>).

$29 \bigcirc 26$

$43 \bigcirc 43$

$50 \bigcirc 49$

$45 \bigcirc 48$

$27 \bigcirc 27$

$38 \bigcirc 30$

$39 \bigcirc 20$

$50 \bigcirc 50$

$34 \bigcirc 29$

$49 \bigcirc 29$

$32 \bigcirc 32$

$40 \bigcirc 38$

Συνέχισε να μετράς...

