


Тиждень 15

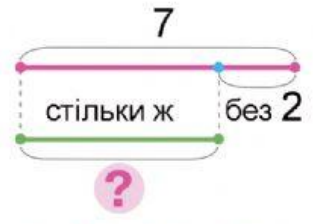
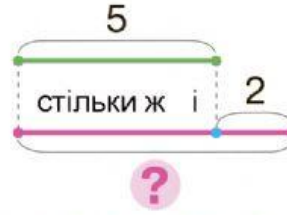
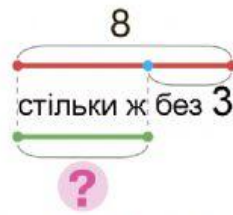
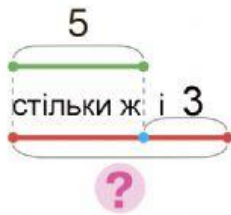
(ім'я)



Зоровий диктант. Що має бути наступним? Продовж ряд.



Розглянь схеми. Склади рівність до кожної схеми.



Знайди значення виразів двома способами за схемами.

$$6 + 3 = 6 + \square + \square = \square + \square = \square$$

$$6 - 3 = 6 - \square - \square = \square - \square = \square$$

$$4 + 3 = 4 + \square + \square = \square + \square = \square$$

$$4 - 3 = 4 - \square - \square = \square - \square = \square$$



Знайди значення різниць. Заповни таблицю за зразком.

	8-3	7-2	5-1	4-3	2-1	4-2	9-5	6-2	3-1	8-5	9-8
Зменшуване	8										
Від'ємник	3										
Різниця	5										

