





اكتب الآحاد والعشرات في مخطط القيمة المكانية، ثم اكتب العدد.

27.

العشرات	الآحاد	العشرات	الآحاد
			


اثنان وستون

28.

العشرات	الآحاد	العشرات	الآحاد
			



ثمانية وخمسون

29.

العشرات	الآحاد	العشرات	الآحاد
			

خمسة وثمانون

30.

العشرات	الآحاد	العشرات	الآحاد
			

ثلاثة وسبعون