







ESCRIBE DEBAJO DEL PENTAGRAMA EL NOMBRE DE CADA NOTA.

EA.1.11.1 B / EA.2.12.1 B / EA.3.12.B

1) Completa el cuadro arrastrando las figuras, silencios y duraciones:

	Figura	¿Cuánto dura?	¿Cuál es su silencio?
Corchea			
Negra			
Blanca			



			1
	2		
		0,5	

www.unimosa
capacidades.com