

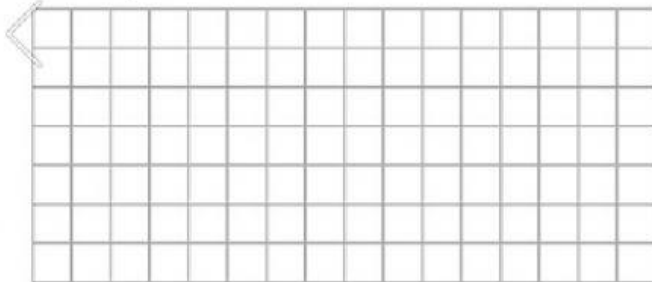
Destreza:

M.3.1.17. Encontrar el máximo común divisor y el mínimo común múltiplo de un conjunto de números naturales.


NOMBRE DEL ESTUDIANTE: _____ GRADO: _____ FECHA: _____

Halla el m.c.m de:

a. $4, 6 \text{ y } 9 =$




b. $8, 12, 24 =$



Encuentra el m.c.d de: 25 y 89

90 y 240



m.c.d 25 y 89 = _____

m.c.d 90 y 240 = _____

Resuelve el siguiente problema:

En una tienda tenemos 100 gomitas verdes, 60 rojas y 40 amarillas. Queremos guardarlos en bolsas que tengan el mismo número de objetos. ¿Cuántas gomitas habrá en cada bolsa? Ahora tenemos que calcular el máximo común divisor.

En cada bolsa habrá

gomitas.