










# Die Zahlen

I. Note comment s'écrivent les dizaines en allemand

II. Complète la règle de formation des nombres en déplaçant les mots du réservoir !

UND	UNITE	DIZAINES

III. Note comment se disent les nombres suivants.

					
---	--	---	--	---	--

Que remarques-tu ?

---



---

IV. Note les nombres suivants en toutes lettres !

