

REDES TRÓFICAS – PACB

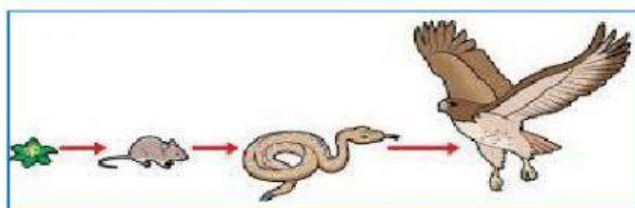
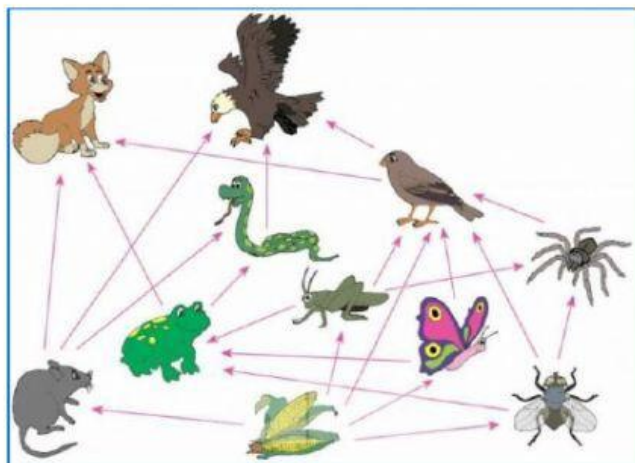


NOMBRES Y APELLIDOS: _____

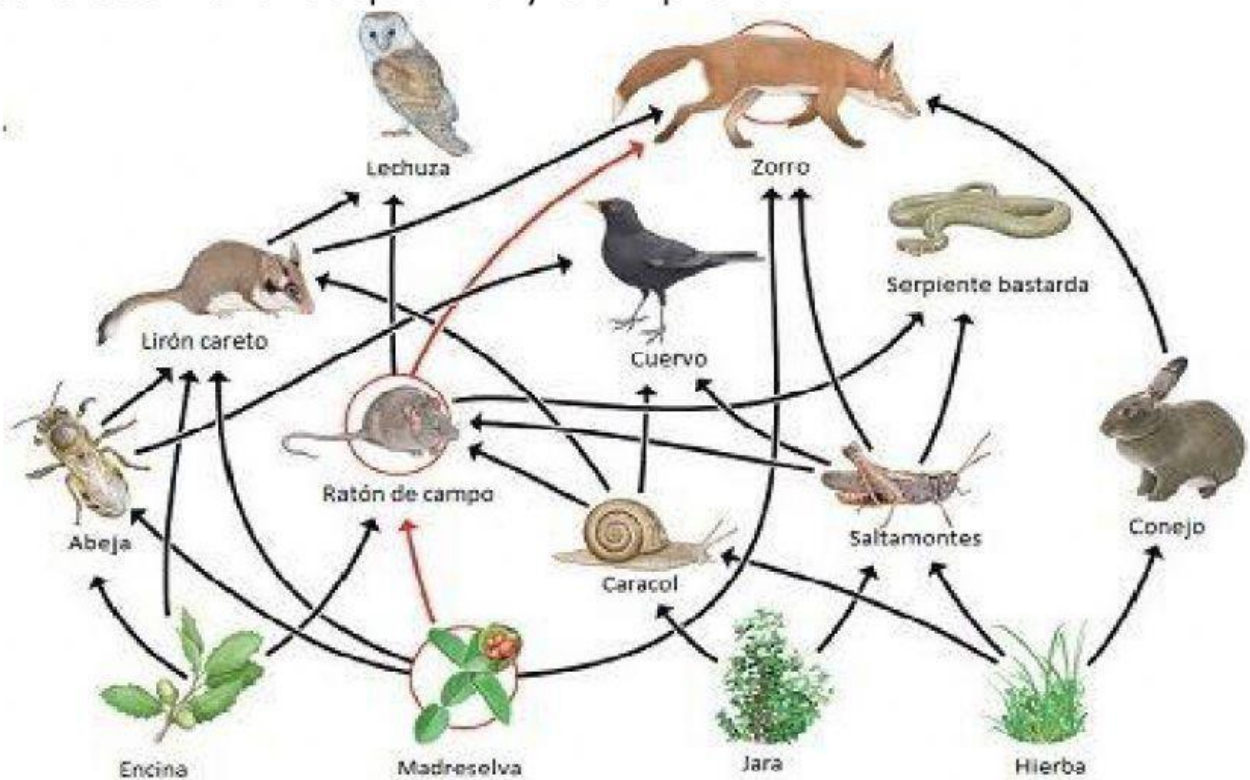
1. Completa:

- a. Una _____ está formada por varias cadenas alimentarias interconectadas.
- b. Los seres _____ fabrican su propio alimento.
- c. Los seres _____ se alimentan de otros seres.
- d. Las plantas son _____ porque utilizan la energía solar.
- e. Las bacterias son _____ al utilizar químicos.

2. Indica lo que representa cada esquema:



3. Observa el esquema y completa.



❖ Productores primarios:

❖ Consumidores primarios:

❖ Consumidores secundarios:

❖ Consumidores terciarios:

