



NOTA

Evaluación final
"Segundo Básico"

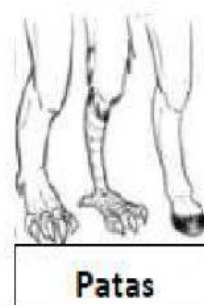

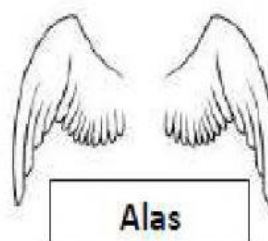
Nombre:

Fecha: ____/____/____

Curso: ____

Puntaje: ____/ 5

1.- UNE CON UNA LÍNEA el animal a la estructura que utiliza para desplazarse (3 Puntos.)





3.- ¿Lo que observas es?

- a) volcán
- b) cordillera
- c) cerro



4.- ¿En cuál de los paisajes es dónde hay menos vegetación?

A)



B)



C)

