



PEMERINTAH PROVINSI JAMBI
DINAS PENDIDIKAN
SMA NEGERI 4 SAROLANGUN



Jalan : Madinapura No. 138 Mandiangin, Kab. Sarolangun – Jambi Kode Pos 37492 telepon : 081373173738
Email : sma.negeri4.sarolangun@gmail.com blog : pelangimadinapura.blogspot.com

LEMBAR KERJA PESERTA DIDIK (LKPD)

MATA PELAJARAN : EKONOMI

KOMPETENSI DASAR : 3.6. APBN DAN APBD
GURU PENGAMPU : R U M I A T I, S.E.
NAMA :
KELAS :

A. Pilihlah satu jawaban yang paling tepat

1. Berikut ini sumber penerimaan negara dan daerah

- (1) pajak penghasilan
- (2) Retribusi
- (3) Pajak kendaraan bermotor
- (4) Pajak pertambahan nilai
- (5) Hasil sitaan peradilan

Sumber pendapatan pemerintah pusat ditunjukkan oleh nomor

- A. (1), (2) dan (3)
- B. (1), (2) dan (4)
- C. (1), (2) dan (5)
- D. (1), (4) dan (5)
- E. (2), (4) dan (5)

2. Pengeluaran pemerintah pusat dan pemerintah daerah adalah sebagai berikut:

- (1) Subsidi daerah otonom
- (2) Bunga dan cicilan utang
- (3) Bantuan sosial
- (4) Bantuan pembangunan pasar
- (5) Bantuan rehab sekolah dasar

Berdasarkan jenis pengeluaran diatas, yang termaksud pengeluaran pemerintah daerah ditunjukkan nomor

- A. (1), (2) dan (3)
- B. (1), (2) dan (4)
- C. (1), (2) dan (5)
- D. (2), (3) dan (4)
- E. (3), (4) dan (5)

3. Pendapatan asli daerah (PAD) berasal dari beberapa sumber. Berikut ini yang merupakan sumber pendapatan asli daerah adalah

- A. sisa lebih perhitungan anggaran daerah
- B. penerimaan pinjaman daerah
- C. dana cadangan daerah
- D. hasil penjualan kekayaan daerah yang dipisahkan
- E. keuntungan selisih rupiah dengan mata uang asing

4. Didalam APBN tertulis sebagai berikut:

- (1) Penerimaan dalam negeri Rp. 321.605,5 miliar
- (2) Hibah Rp. 3.631,5 miliar
- (3) Belanja pemerintah pusat Rp. 227.598,3 miliar
- (4) Belanja daerah Rp. 120.069,5 miliar

Berdasarkan data diatas, dapat disimpulkan APBN tersebut mengalami

- A. Defisit sebesar Rp. 22.430,8 miliar
- B. Defisit sebesar Rp. 26.062,4 miliar
- C. Surplus sebesar Rp. 194.007, 1 miliar
- D. surplus sebesar Rp. 197.638,7 miliar
- E. surplus sebesar Rp. 576.743,9 miliar

5. Pengaruh /dampak anggaran pada ekonomi adalah sebagai berikut:

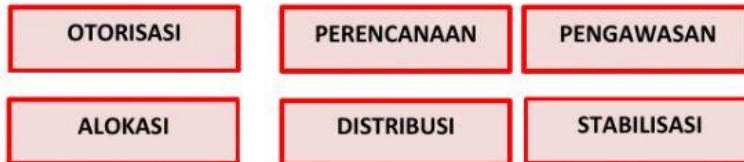
- (1) Mewujudkan pertumbuhan dan stabilitas perekonomian
- (2) Meningkatkan investasi masyarakat
- (3) Meningkatkan kesempatan kerja
- (4) Memberikan arah prioritas pembangunan nasional
- (5) Memberikan pengaruh pada mekanisme pasar monopoli

Dampak APBN terhadap kegiatan ekonomi masyarakat ditunjukkan nomor

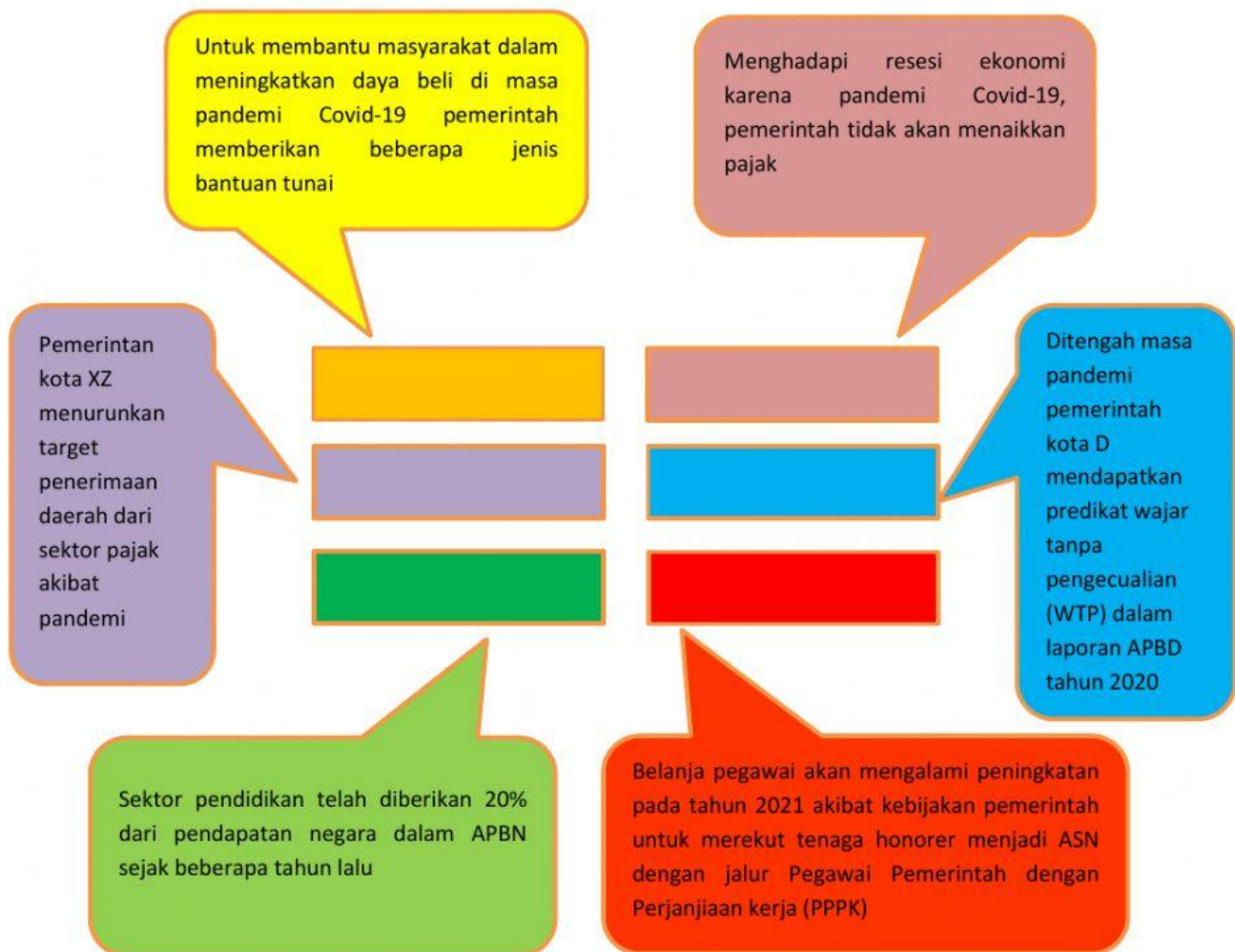
- A. (1), (2) dan (3)
- B. (1), (2) dan (4)
- C. (1), (2) dan (5)
- D. (2), (3) dan (4)
- E. (3), (4) dan (5)

B. Tentukan jenis fungsi APBN berdasarkan contoh fungsi APBN yang disediakan berikut ini











Fungsi APBN terdiri dari:



CONTOH FUNGSI APBN DAN APBD



C. Carilah pasangan yang tepat sehingga pernyataan berikut menjadi benar

Pengelolaan keuangan negara yang ditetapkan tiap tahun dengan undang-undang			Penerimaan negara bukan pajak
Sumber penerimaan daerah yang berasal dari APBN, terdiri dari dana bagi hasil, dana alokasi umum dan dana laokasi khusus			Pengaruh APBN/APBD
Pos APBN yang merinci sumber penerimaan negara jenis migas dan bagian laba BUMN			Siklus anggaran
Dapat meningkatkan kesempatan kerja, meningkatkan daya saing produk, mengendalikan stabilitas ekonomi			APBN
Jangka waktu pembuatan anggaran mulai dari penyusunan RAPBNsampaai dengan saat perhitungan anggaran negara disahkan menjadi undang-undang			Dana perimbangan