



# SEGMENTOS Y RECTAS

Escribe cuántos segmentos forman cada figura



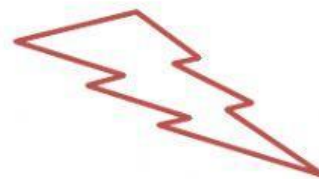
segmentos



segmentos



segmentos




segmentos

Observa las rectas y elige rectas paralelas o rectas secantes.



Observa y elige que tipo de rectas son estas parejas



La roja y la naranja son

La roja y la azul son

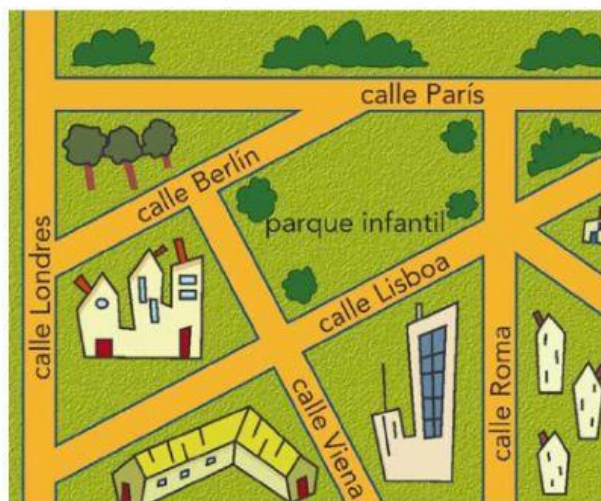
La naranja y la violeta son

La violeta y la verde son

La verde y la naranja son

La azul y la verde son

Elige cómo son estas calles



Las calles Berlín y París son

Las calles Berlín y Lisboa son

Las calles Roma y Viena son

Las calles Roma y Londres son

Las calles Lisboa y Viena son

Las calles Londres y París son

Las calles Londres y Lisboa son