






















Nombre:

Fecha:

1. Dictado de 9 números

2. Resuelva las sumas

sumas		cuenta y suma	
 +  = 		 +  = 	
 +  = 		 +  = 	
 +  = 		 +  = 	
 +  = 		 +  = 	

3. Complete la serie de 100 en 100

300		500		700		900
-----	--	-----	--	-----	--	-----

100		300		500		700
-----	--	-----	--	-----	--	-----

4. Completa el antecesor y sucesor

	210	
--	-----	--

	380	
--	-----	--

	150	
--	-----	--