

PROBLEMAS DE RAZONAMIENTO.

1.- María vive a 452.345 metros de su tía, quien vive a 451.640 metros de su abuelita.

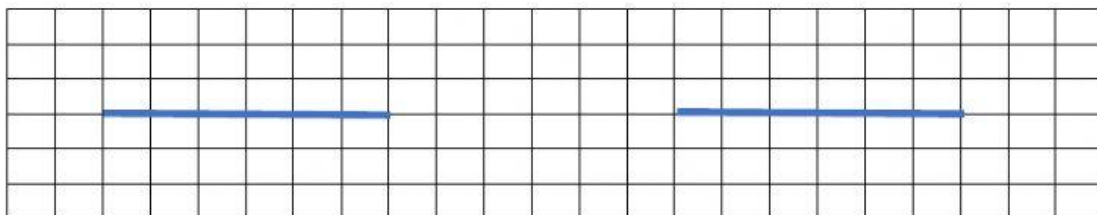
a) ¿Qué distancia es mayor?, y b) ¿Cuánto suman las dos distancias?



Respuesta: a)

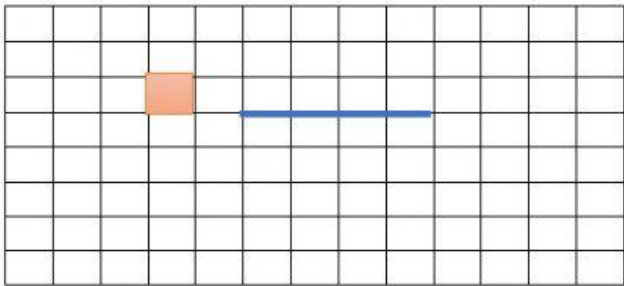
b)

2.- El municipio se propuso sembrar 421.230 árboles de pino en un año. Si en el primer semestre sembraron 146.728 árboles y en el segundo 132.458, ¿Cuántos árboles de pino les faltó sembrar?



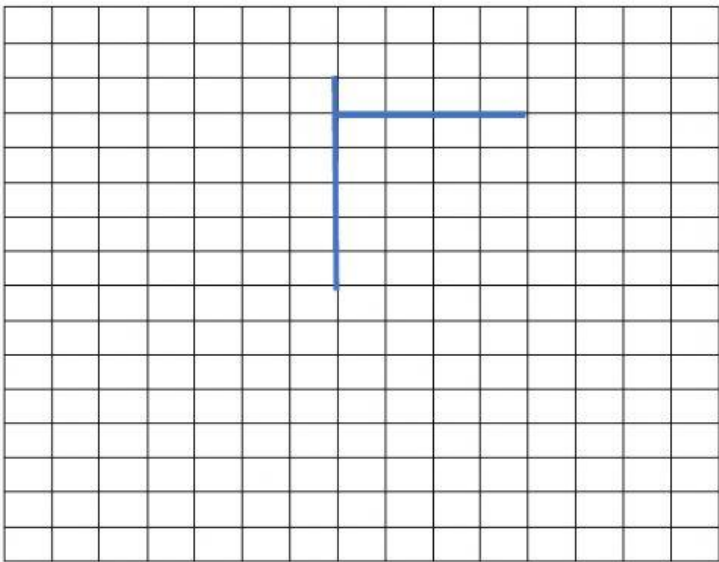
Respuesta:

3.- En una hilera de un bosque hay 453 árboles, si el bosque tiene 314 hileras, ¿Cuántos árboles tiene el bosque?



Respuesta: Tiene árboles.

4.- En una estación de peaje se recaudó 689.844 dólares en un año. ¿Cuánto se recaudó como promedio cada mes?



Respuesta: